

INFO
groep 7

Informatieverwerking
Werkboek

Z



Ajodakt


ThiemeMeulenhoff

ajodakt

Informatieverwerking

Groep 7

Auteur
P. Nagtegaal



Les 1


1

Lees het stukje uit het woordenboek en maak daarna de vraag.

Bruinbrood, o. Brood van tarwe met zemelen.
Bruineren, -neerde, gebruieneerd.
 Een bruine kleur geven.
Bruingeel, bn. Donkergeel.
Bruinogig, bn. Een bruinogig meisje.

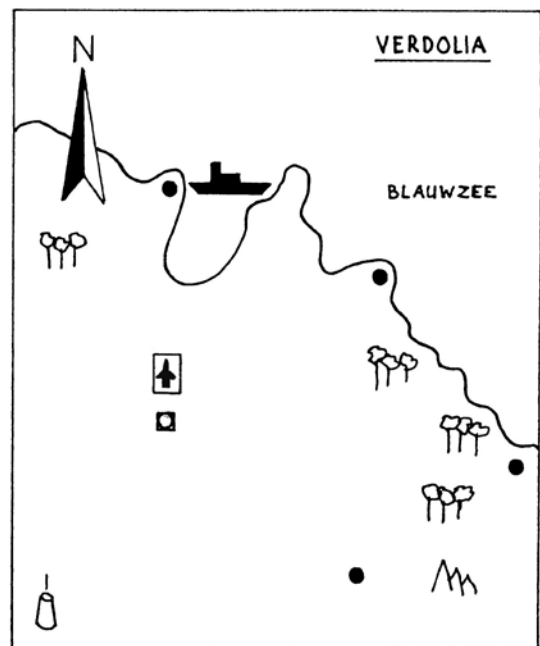
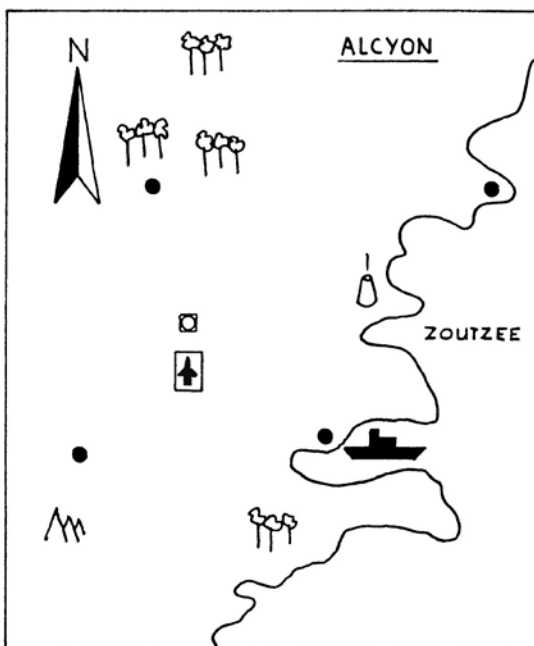
Bruinvis, m. -sen. Walvisachtig zoogdier, ook wel tuimelaar genoemd.
Bruis, o. Schuim.
Bruisen, bruiste, gebruiet.
Bruistablet, m. -ten. Pil die bruist in water.

Omcirkel de tekening van de tuimelaar.



2

Bekijk de legenda en de kaarten van Alcyon en Verdolia en maak daarna de vragen.



Legenda: Hoofdstad Stad Haven Vliegveld Bergen
 Vulkaan Bossen

- In welk land ligt het vliegveld ten noorden van de hoofdstad? Verdolia
- In welk land ligt de vulkaan ten wesen van de hoofdstad? Verdolia
- In welk land liggen de meeste bossen in het westen? Alcyon
- In welk land ligt de haven zuidelijker dan de vulkaan? Alcyon
- In welk land liggen de meeste bergen in het oosten? Verdolia

3

Zet een kruis door de vakken waarin de woorden *niet* in alfabetische volgorde staan.

blauw geel lila oranje paars rood	armen benen darmen gewrichten handen nieren	kokkel platschelp tolhoren venusschelp nonnetje wenteltrap	hagel mist motregen sneeuw stortbui wolkbreuk	beeldscherm modem muis printer toetsenbord scanner
bruin grijs groen oker wit zwart	aorta bloedplaatje halsslagader plasma vaatvlies zuurstof	fuikhoorn gaper muiltje mossel noordhoren pelikaansvoet	briesje cycloon orkaan passaat storm wervelwind	alt backspace delete end enter shift

4

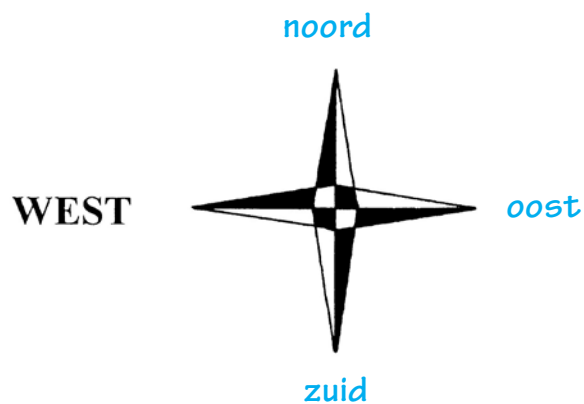
Lees de informatie op een tube tandpasta en maak daarna de vraag.

- Poets 3x daags uw tanden.
- Neem om de twee maanden een nieuwe tandenborstel.
- Breng tweemaal per jaar een bezoek aan de tandarts.
- Poets met AQUAFLUOR voor optimale verzorging van tanden en tandvlees.

- a Wat is de merknaam van de tube waarop de informatie staat? **Aquafluur**.....
- b Hoe vaak wordt een bezoek aan de tandarts op deze tube aangeraden? **2x per jaar**.....

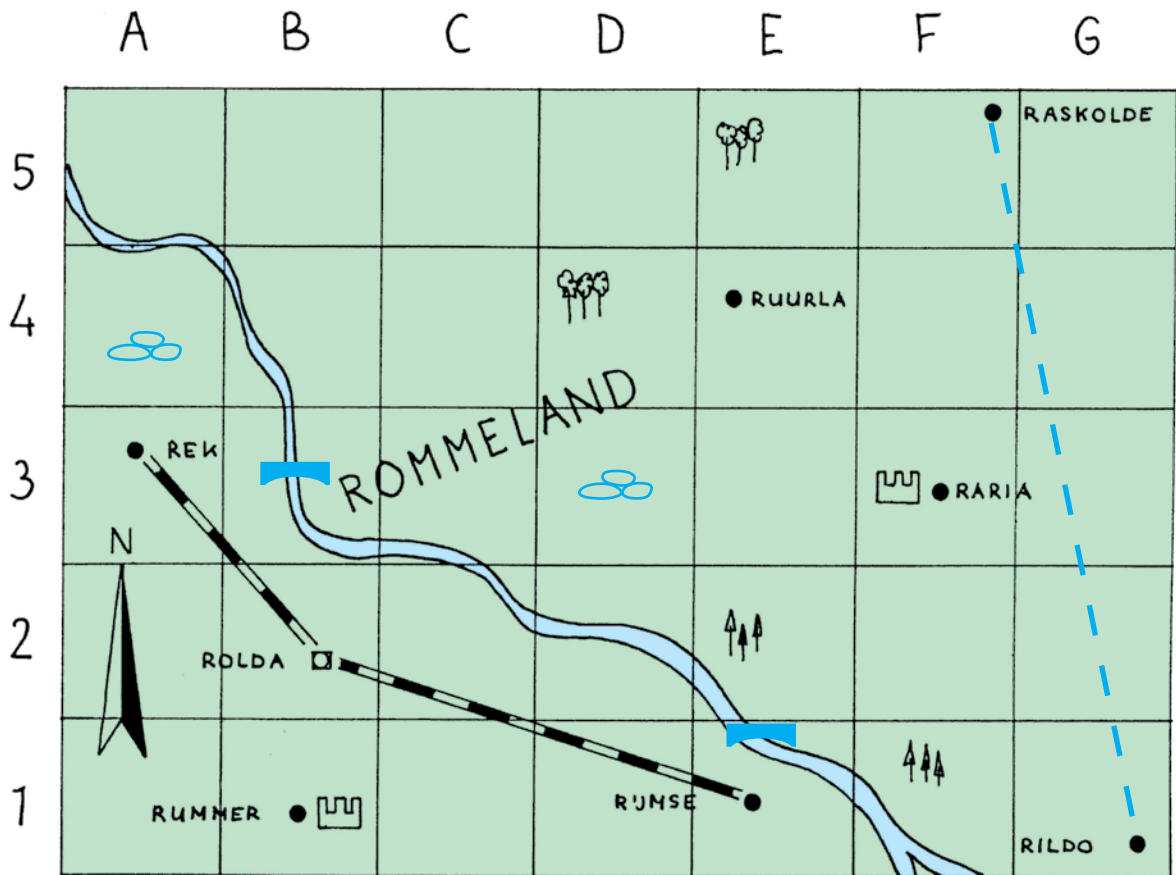
5

Vul de windroos aan met de andere windrichtingen.



Les 2

1 Bekijk de kaart en de legenda van Rommeland en maak daarna de vragen en opdrachten.



Legenda: Hoofdstad Stad Spoorlijn Monument
 Loofbossen Dennenbossen Hunebedden Brug

a Welke steden zijn door middel van een spoorlijn verbonden aan de hoofdstad?

Rek en Rijkse

b Bij welke steden vind je een monument? Rummer en Raria

c Teken in de vakken B3 en E1 een brug over de rivier.

d Verbind de meest noordelijk gelegen stad door middel van een spoorlijn met de meest zuidelijk gelegen stad.

e In de vakken A4 en D3 vind je hunebedden. Teken de hunebedden op de kaart.

f In welke vakken vind je dennenbossen? F1 en E2

g In welke vakken vind je loofbossen? D4 en E5

h Kleur het land groen en het water blauw.

2**Bekijk onderstaande telefoongegevens en maak daarna de vragen.****Dropper H**

Aagje Dekenstraat 12, 9876 BV 879866

Drost G

Rossinilaan 42, 9855 CX 832211

E-mail drost@gert.nl

Druenen H.G. van Arts

Noordhoekweg 234, 9866 HG 875600

Duin J

Slijkstraat 3 9876 GD 865588

Duin K

Visserweg 78, 9755 AA 875509

Mobiele telefoon 07-65 65 87 01

Duine L Scheepsbouwkundige

Veerweg 345, 9823 SA 875433

Duik P

Winterweg 123, 9856 RD 876767

- a Evelien voelt zich niet lekker. Ze wil graag dat er een dokter naar haar toekomt. Wie moet ze bellen? **Arts van Dreunen**
- b K. Duin is vandaag niet bereikbaar op nummer 875509. Op welk nummer is K. Duin misschien wel bereikbaar? **07-65 65 87 01**
- c Wat is het beroep van L. Duine? **Scheepsbouwkundige**
- d Mevrouw Janssen uit Hilderdijk stuurt een e-mail naar meneer Drost. Wat is het e-mailadres van meneer Drost? **87 55 22**
- e Op welk adres woont de familie Dropper? **Aagje Dekenstraat 12**

3**Kleur de vlakken met de volgende coördinaten groen.**


A1 – A5 – B2 – B4 – C3 – D2 – D4 – E1 – E5 – F3 – G2 – G4 – H1 – H5 – I2 – I4 – J3

	A	B	C	D	E	F	G	H	I	J
1										
2										
3										
4										
5										


Les 3

1


Bekijk de mappenstructuur van fysiotherapeut K. Need en maak daarna de vragen.




A t/m F




G t/m K



L t/m O



P t/m S



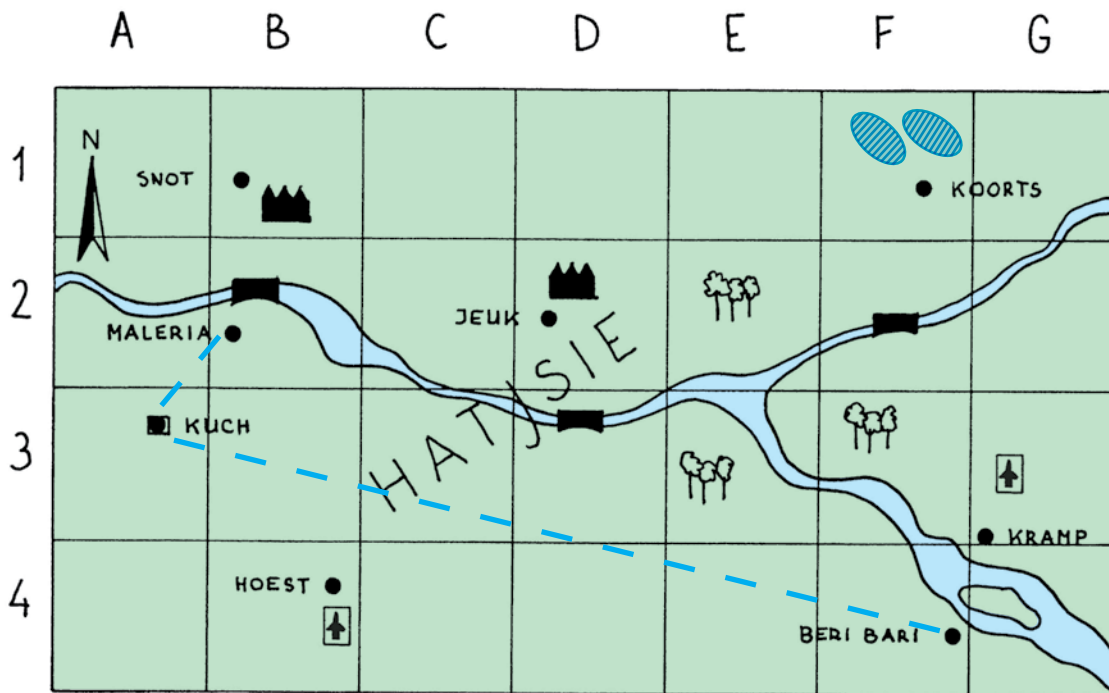
T t/m Z

Noteer in welke mappen je informatie vindt over de volgende patiënten:

- a Lauwerse A.J. Nummer 3
- b Floresse P. Nummer 1
- c Taart K.L. Nummer 5
- d Griep S. Nummer 2
- e Bosman C. Nummer 1
- f Zandstra V.V. Nummer 5
- g Otterman N. Nummer 4
- h Hoven Y. van Nummer 2

2

Bekijk de kaart en de legenda van Hatjsie en maak daarna de vragen.



- Legenda:
- Hoofdstad
 - Stad
 - Brug
 - Spoorlijn
 - Meer
 - Industrie
 - Vliegveld
 - Bossen

- a Bij welke steden vind je industrie? **Snot en Jeuk**
- b Bij welke steden vind je een vliegveld? **Hoest en Kramp**
- c In welke vakken vind je een brug? **B2 - D3 - F2**
- d In welk vakken vind je bossen? **E2 - E3 - F3**
- e Verbind de hoofdstad door middel van een spoorlijn met Maleria en Beri Bari.
- f Ten noorden van Koorts liggen twee meren. Teken de meren op de kaart.
- g Kleur de rivieren en de meren blauw en het land groen.

3

Zet de volgende landen op alfabetische volgorde.

- a Nederland – België – Rusland – Noorwegen – Spanje – Albanië – Duitsland

1 Albanië	5 Noorwegen
2 België	6 Rusland
3 Duitsland	7 Spanje
4 Nederland	

- b England – Zweden – Letland – Griekenland – Turkije – Finland – Polen

1 Engeland	5 Polen
2 Finland	6 Turkije
3 Griekenland	7 Zweden
4 Letland	

- c Portugal – Italië – Oostenrijk – Slowakije – Luxemburg – Ierland – Tsjechië

1 Ierland	5 Portugal
2 Italië	6 Slowakije
3 Luxemburg	7 Tsjechië
4 Oostenrijk	

Les 4

1

Lees de gebruiksaanwijzing van de elektrische klokradio en maak daarna de vragen.

De tijd instellen.

Wanneer het apparaat op het stroomnet wordt aangesloten verschijnen er knipperende letters. De knipperende letters geven aan dat de tijd nog ingesteld moet worden. Druk tegelijkertijd op de knoppen TIME en MIN om het juiste aantal minuten in te stellen. Voor het instellen van de uren moet u de knoppen TIME en HOUR tegelijkertijd indrukken.

De wekker instellen.

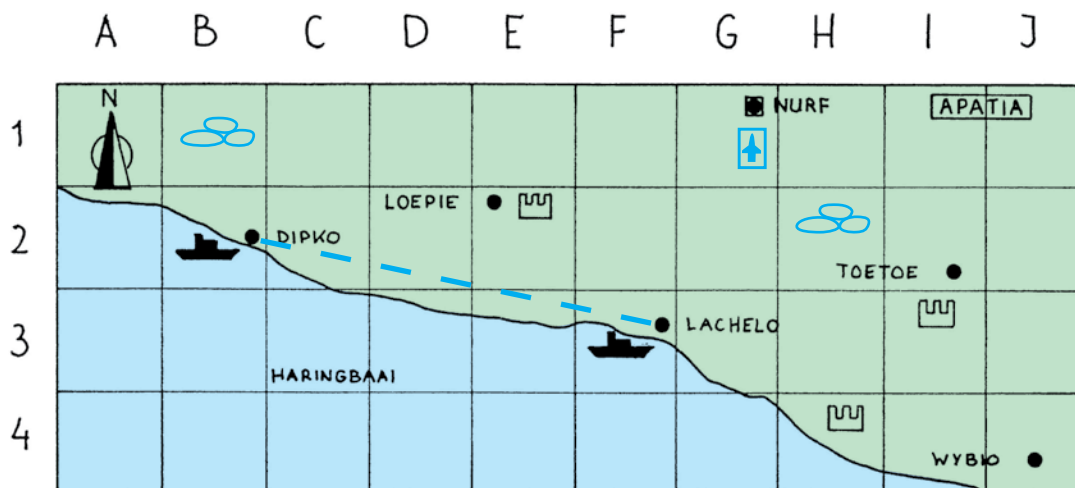
Druk tegelijkertijd op ALARM en HOUR voor het instellen van het juiste uur. Voor het instellen van de juiste minuten drukt u op ALARM en MIN.

Door de ALARMKNOP op ON te zetten wordt u op de door u gewenste tijd gewekt.

- a Hoe moet het juiste aantal uren ingesteld worden? Door tegelijk op TIME en HOUR te drukken
- b Hoe moet het juiste aantal minuten van de wekkerfunctie ingesteld worden? Door op ALARM en MIN te drukken
- c Hoe moet de wekker aangezet worden? Door de alarmknop op ON te zetten

2

Bekijk de kaart en de legenda van Apatia en maak daarna de opdrachten.



- Legenda: Hoofdstad Stad Spoorlijn Vliegveld
 Haven Monument Hunebed Bergen

- a Welke stad ligt het meest noordelijk? **Nurf**
- b Welke stad ligt het meest zuidelijk? **Wybio**
- c Welke stad ligt het meest westelijk? **Dipko**
- d Welke stad ligt het meest oostelijk? **Wybio**
- e Ten zuiden van de hoofdstad ligt een vliegveld. Teken het vliegveld op de kaart.
- f In de vakken B1 en H2 vind je hunebedden. Teken de hunebedden op de kaart.
- g In welke vakken zijn er monumenten te vinden? **E2 - H4 - I3**
- h In welke vakken vind je de havens? **B2 en F3**
- i Verbind de havensteden door middel van een spoorlijn met elkaar.
- J Kleur het water blauw en het land groen.

3

Bekijk onderstaande gegevens en maak daarna de vragen.

<p>Speelgoed Baardmans Houtwinkel <i>Speciaalzaak in houten speelgoed</i> Rolschaatslaan 12 8976 DS Dozendaal 0989-451101</p>	<p>Kids in action <i>Speelgoed voor kinderen tot 4 jaar</i> Speenweg 14 3213 AP Arnhem 0765-332299</p>
<p>Games Superstore <i>Computer- en videospelletjes</i> Poppenhuislaan 567 8970 FK Zelft 0965-950403</p>	<p>Modelbouw Mobi <i>De grootste modelbouwspecialist in Haarlijm</i> <i>Ook voor racebanen</i> Springtouwlei 234 6543 RR Haarlijm 0345-909090</p>
<p>Het Hobbyhuis Knikkersteeg 56 5050 HJ Koningen 0955-909080</p>	<p>Toys <i>Vliegerspecialist</i> Ballonstraat 78 4098 DM Houten 0515-769009</p>

- a Wilfred zoekt een leuk speeltje voor zijn broertje van twee jaar oud. In welke winkel vindt Wilfred zeker iets voor deze leeftijdsgroep? **Kids in action**
- b Suzan heeft geld gekregen voor haar verjaardag. Zij wil van haar verjaardagsgeld een mooie vlieger gaan kopen. In welke winkel kan zij het beste gaan kijken? **Toys**
- c Waarin is Games Superstore gespecialiseerd? **Computer- en videospelletjes**
- d In welke plaats is het Hobbyhuis gevestigd? **Koningen**

Les 5

1

Bekijk wat je nodig hebt voor het bakken van brood en maak daarna de opdracht.

KEUKENGEREI	INGREDIËNTEN
grote mengkom	witte bloem
kleine mengkom	melk
maatbeker	water
zeef	suiker
bakblik	gist
boterkwastje	zonnebloemolie
pannetje	zout
huishoudfolie	boter

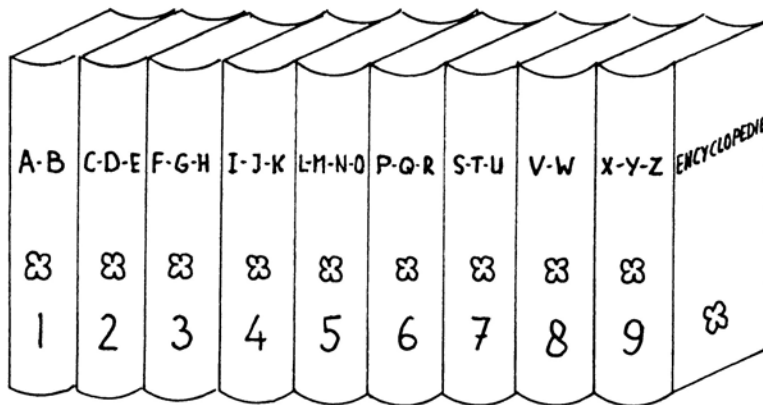
Omcirkel het keukengeri en de ingrediënten die je nodig hebt om brood te bakken.

lepel rozijnen kaneel gist bakplaat zeef
maatbeker aluminiumfolie yoghurt suiker boter

2

Kleur de vakken met deze coördinaten rood: A6 – B7 – B5 – C4 – C2 – D3 – D1 – E2
Kleur de vakken met deze coördinaten blauw: D5 – E5 – F7 – F6 – F5 – F4 – F3 – G3
Kleur de vakken met deze coördinaten groen: G2 – H3 – H1 – I7 – I4 – I2 – I6 – J5
Kleur de rest van de vakken geel.

7										
6										
5										
4										
3										
2										
1										
	A	B	C	D	E	F	G	H	I	J

3**Bekijk de encyclopedie en maak daarna de vragen.**

Geef aan in welk boek je informatie kunt vinden over de volgende onderwerpen.

- a Onderzeeërs Boeknummer: **5**.....
- b Duizendpoten Boeknummer: **2**.....
- c Hondenrassen Boeknummer: **3**.....
- d China Boeknummer: **2**.....
- e Bergen Boeknummer: **1**.....
- f Nieren Boeknummer: **5**.....

4**Zet de volgende woorden in alfabetische volgorde.**

papelepel – peperkoek – pagekop – pillendoos – postpapier – polderjongen

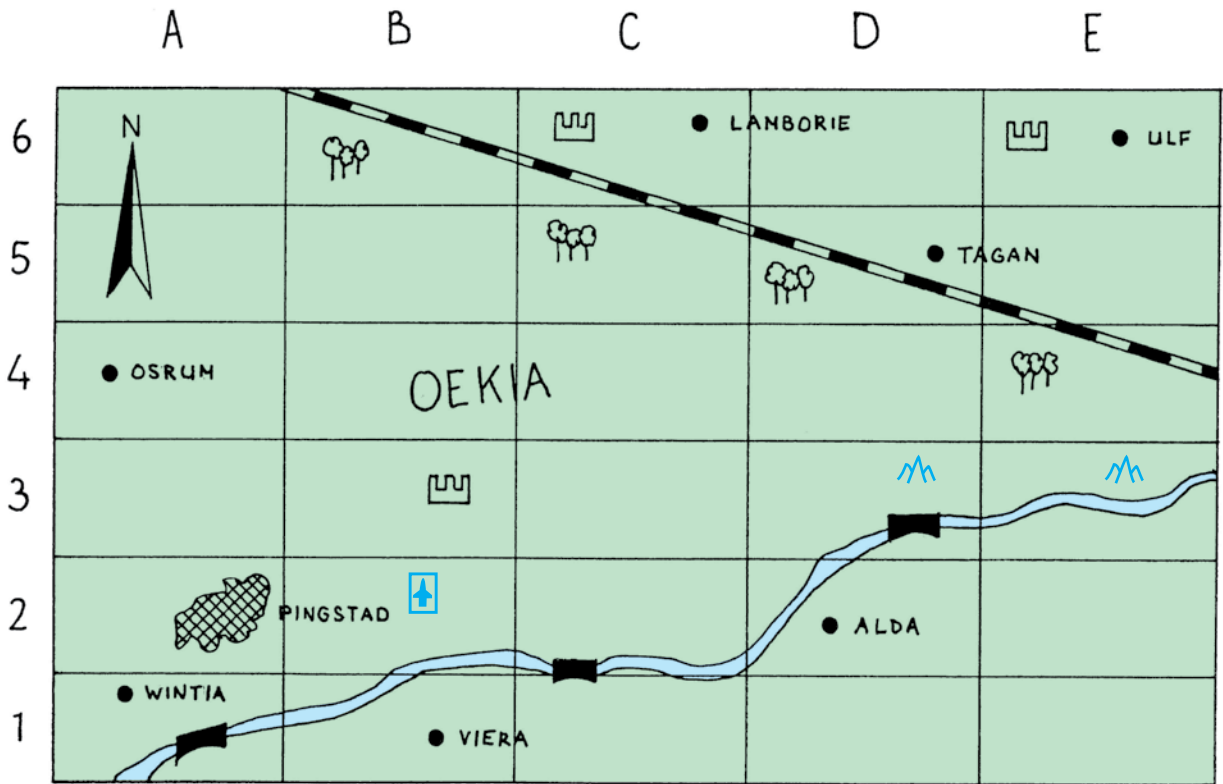
- a **pagekop**..... d **pillendoos**.....
- b **papelepel**..... e **polderjongen**.....
- c **peperkoek**..... f **postpapier**.....

sabelbont – schrijfstift – schietwilg – salpeterzuur – seinfluit – siroop

- a **sabelbont**..... d **schrijfschrift**.....
- b **salpeterzuur**..... e **seinfluit**.....
- c **schietwilg**..... f **siroop**.....

1

Bekijk de kaart en de legenda van Oekia en maak daarna de opdrachten.



Legenda: Hoofdstad Stad Brug Monument
 Spoorlijn Bos Vliegveld Bergen

- a Welke plaatsen liggen ten noorden van de spoorlijn? Ulf - Tagan - Lamborie
- b Welke plaatsen liggen ten zuiden van de hoofdstad? Wintia - Viera
- c In welke vakken vind je monumenten? B3 - C6 - E6
- d In welke vakken vind je bos? B6 - C5 - D5 - F4
- e In de vakken E3 en D3 vind je bergen. Teken de bergen op de kaart.
- f Ten oosten van de hoofdstad ligt een vliegveld. Teken het vliegveld op de kaart.
- g Welke plaats ligt het meest westelijk? Osrum
- h In welk vak ligt de meest oostelijk gelegen brug? D3
- i Kleur het land groen en het water blauw.

2

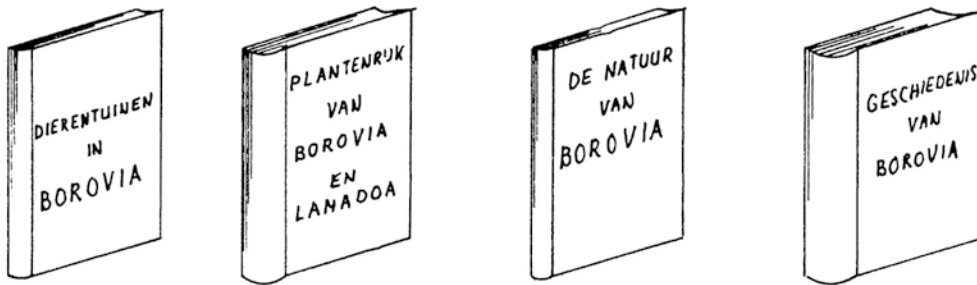
Zet de volgende woorden in alfabetische volgorde.

godendrank – galeislaaf – gorilla – gulzigaard – glimlach – gekkenwerk

- | | | | |
|---|-------------------|---|-------------------|
| a | <u>galeislaaf</u> | d | <u>godendrank</u> |
| b | <u>gekkenwerk</u> | e | <u>gorilla</u> |
| c | <u>glimlach</u> | f | <u>gulzigaard</u> |

3

Lees de titels van de boeken en maak daarna de vraag.



Mala wil weten welke dieren er in Borovia voorkomen. In welk boek kan zij het beste zoeken?

De natuur van Borovia.

4

Lees het garantiebewijs door en maak daarna de vraag.

TIJDIO horloges worden met de grootste zorg gemaakt en voldoen aan de hoogste eisen. Reparatie van fabricagefouten in het uurwerk wordt vanaf de datum van aankoop voor een periode van 12 maanden gegarandeerd.

Behalve:

- 1 Bij onzorgvuldig gebruik.
- 2 De horlogeband, het glas en de batterij vallen buiten de garantie.
- 3 Indien het garantiebewijs niet volledig door de verkoper is ingevuld.

Hoe lang is de garantieperiode op de TIJDIO horloges? Kruis het goede antwoord aan.








- 1 jaar
- 6 maanden
- 18 maanden
- 42 weken

Les 7

1

Bekijk het beelddiagram en maak daarna de vragen.

Verkoopcijfers Beddenspecialzaak Rust Uit

Januari	
Februari	
Maart	
April	
Mei	
Juni	
 = 1 bed	

- In welke maand werden de meeste bedden verkocht? **Maart**
- In welke maand werden de minste bedden verkocht? **April**
- In welke maanden werden er evenveel bedden verkocht? **Februari en juni**
- Hoeveel bedden werden er in het eerste halfjaar gemiddeld verkocht? **10**

2

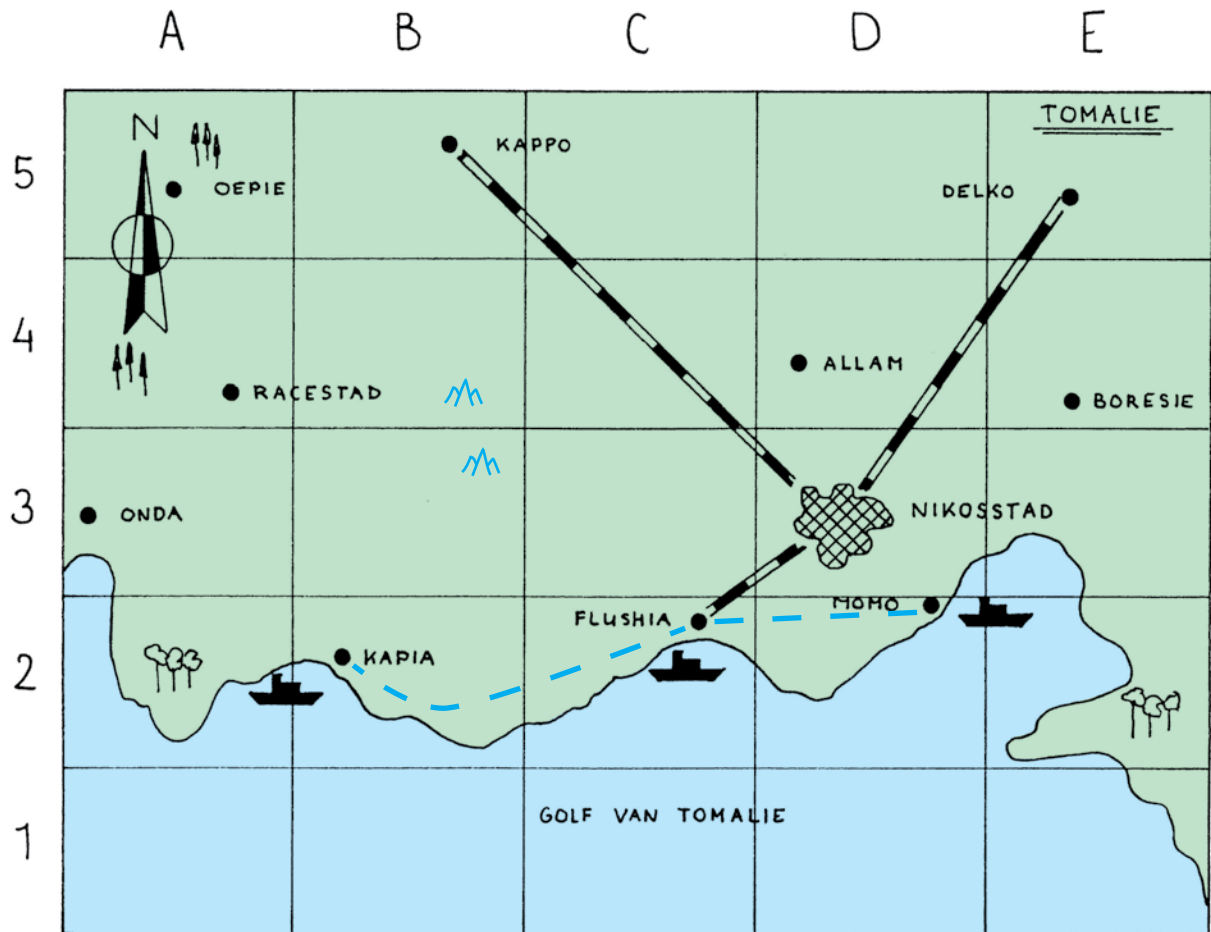
Lees de advertenties en maak daarna de vragen.







 Autokrant 22-11 		
Te koop aangeboden		
Te koop: Saab 900, injectiemotor, driedeurs, bouwjaar 2001, z.g.a.n. Tel.: 0989-786655	Te koop: VW Golf 1.3, benzinemotor, bouwjaar 2009, schuifdak. Tel.: 0989-782210	Te koop: Mercedes 190D, kleur zwart, vierdeurs, met trekhaak, bj. 1997. Tel.: 0989-231090
Te koop: VW Golf 2.0, dieselmotor, bouwjaar 2017, 5 deurs, nieuwe banden. Tel.: 0989-303002	Te koop: Opel Astra Stationwagen, bj. 2015, aluminium velgen. Tel.: 0989-221109	Te koop: BMW Z3, bj. '17, als nieuw, inclusief spoilers en geluidsinstallatie. Tel.: 0989-765843

- Van welke auto kun je de kleur achterhalen? **van de Mercedes 190 D**
- Elize is op zoek naar een VW Golf met dieselmotor. Welk nummer moet ze bellen voor informatie? **0989-303002**
- Wat voor extra's heeft de BMW Z3? **spoilers en geluidsinstallatie**
- Van welke datum is deze autokrant? **22-11**
- Eelco is op zoek naar een stationcar. Welke wagen zou in aanmerking kunnen komen?
Opel Astra

3

Bekijk de kaart en de legenda van Tomalië en maak daarna de opdrachten.



Legenda:  Hoofdstad ● Stad  Haven  Spoorlijn
 Loofbossen  Dennenbossen  Bergen

a Welke steden zijn door middel van een spoorlijn met de hoofdstad verbonden?

Flushia, Kappo en Delko

b Welke stad ligt het meest noordelijk? Kappo

c Welke stad ligt het meest oostelijk? Boriesie

d Welke steden zijn havensteden? Flushia, Kapia en Momo

e In welke vakken vind je loofbossen? A2 en E2

f In welke vakken vind je dennenbossen? A4 en A5

g In de vakken B3 en B4 zijn bergen te vinden. Teken de bergen op de kaart.

h Verbind alle havensteden met elkaar door middel van een spoorlijn.

i Kleur het land groen en het water blauw.

Les 8

1

Bekijk de inhoudsopgave van het boek over het land Handuros. Maak daarna de vragen.

INHOUDSOPGAVE

Inleiding	Blz. 3
Geschiedenis	Blz. 4 tot en met 25
Landschap	Blz. 26 tot en met 40
Steden	Blz. 41 tot en met 83
Industrie	Blz. 84 tot en met 90
Slotwoord	Blz. 90
Inhoudsopgave	Blz. 91



- a Hoeveel bladzijden heeft het boek? 91 bladzijden
- b Welk hoofdstuk is het langst? Het hoofdstuk over de steden
- c In het boek staan verschillende foto's. Lees de omschrijving van de foto's en geef dan aan in welk hoofdstuk ze staan:
- Foto van de woestijn Hasara. Hoofdstuk over landschap
 - Foto van de hoofdstad Burusie. Hoofdstuk over steden
 - Foto van de scheepswerf. Hoofdstuk over industrie

2

Lees de gegevens van autobedrijf Het Wieltje. Maak met deze gegevens het beelddiagram af en maak daarna de vragen.

Aantal verkochte auto's: in juli 8, in augustus 14, in september 13, in oktober 5, in november 10 en in december 10.

Verkoopcijfers autobedrijf Het Wieltje

Juli	
Augustus	
September	
Oktober	
November	
December	

- a In welke maand werden de meeste auto's verkocht? Augustus
- b In welke maand werden de minste auto's verkocht? Oktober
- c Hoeveel auto's werden er in totaal verkocht? 60
- d Hoeveel auto's werden er gemiddeld per maand verkocht? 10

3

Lees het stukje uit de encyclopedie en maak daarna de vraag.

Klankbodem, een vast blad van hout of metaal bij muziekinstrumenten dat de trillingsenergie van de snaar versterkt.

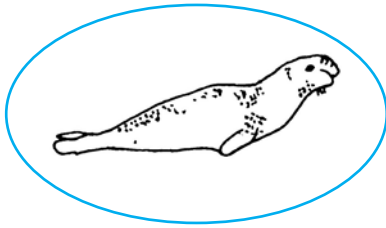
Klapmuts, slurfrob die voornamelijk in de Noordelijke IJszee voorkomt.

Klapperaap, makaak.

Klapperrat, boomeekhoorn welke voorkomt in de Indonesische archipel. De klapperrat boort openingen in kokosnoten waaruit het dier het kiemwit eet.

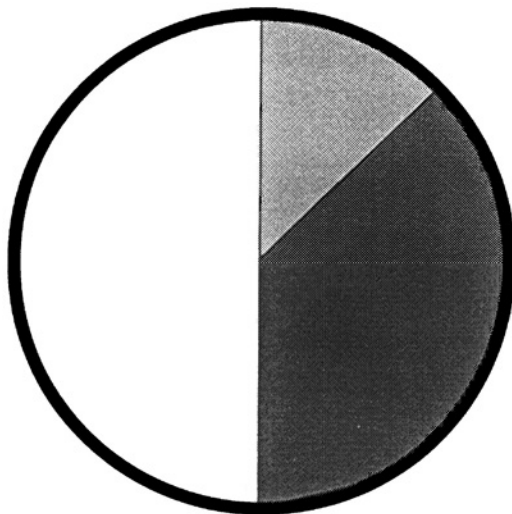
Klaproos, papaver.

Omcirkel de tekeningen van de klapmuts.




4

Bekijk het cirkeldiagram en maak daarna de vragen.



 witlof

 prei

 winterpeen

a Van welke groente werden de minste kilo's verkocht? Witlof

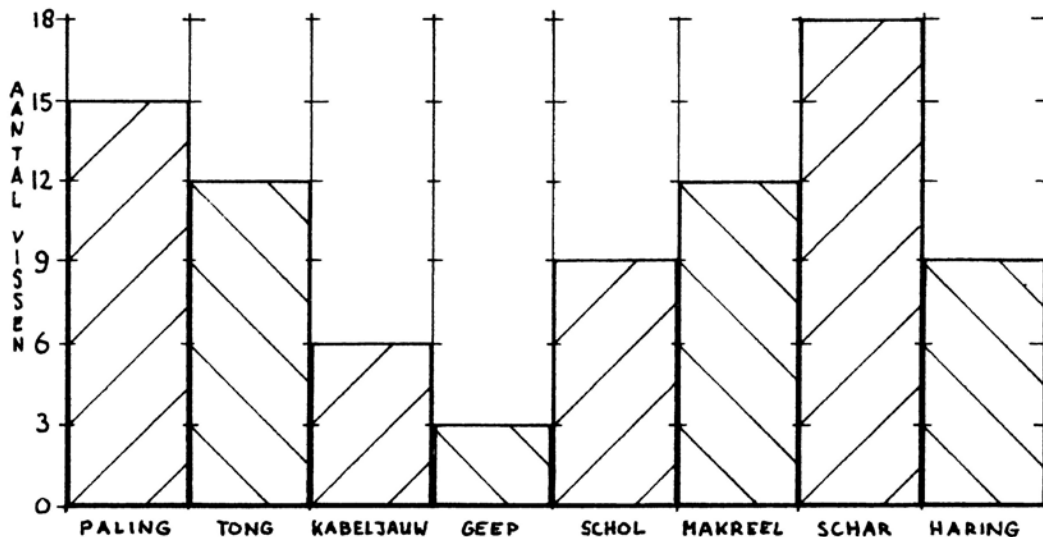
b Van welke groente werden de meeste kilo's verkocht? Winterpeen

Les 9

1

Bekijk de staafdiagram en maak daarna de vragen.


Seizoenvangst van sportvisser Harry Aai




- Welke vis werd door Harry het meest gevangen? *Schar*
- Welke vis werd door Harry het minst gevangen? *Geep*
- Hoeveel vissen ving Harry in totaal tijdens het visseizoen? *84 vissen*

2


Bekijk onder welk nummer chirurg S. Lager de namen van zijn patiënten heeft staan.




A t/m E




F t/m J




K t/m N



O t/m R



S t/m V



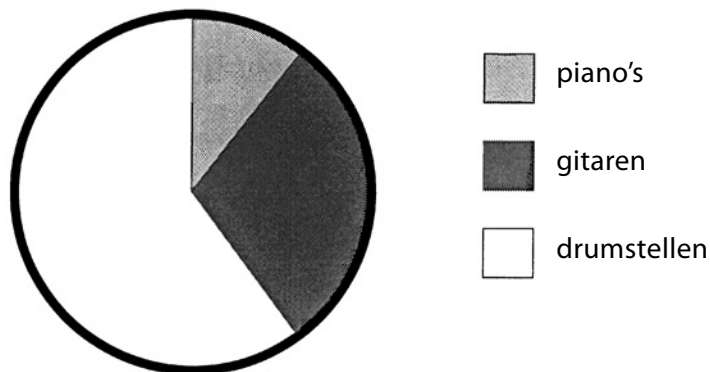
W t/m Z

- Dhr. Griep Nummer: *2*
- Mevr. Pijn-Scheut Nummer: *4*
- Dhr. Breuk Nummer: *1*
- Mevr. Zweer Nummer: *6*
- Dhr. Schimmel Nummer: *5*
- Mevr. Amandel Nummer: *1*
- Dhr. Migraine Nummer: *3*
- Mevr. Hart-Klep Nummer: *2*

3

Bekijk het cirkeldiagram en maak daarna de vragen.

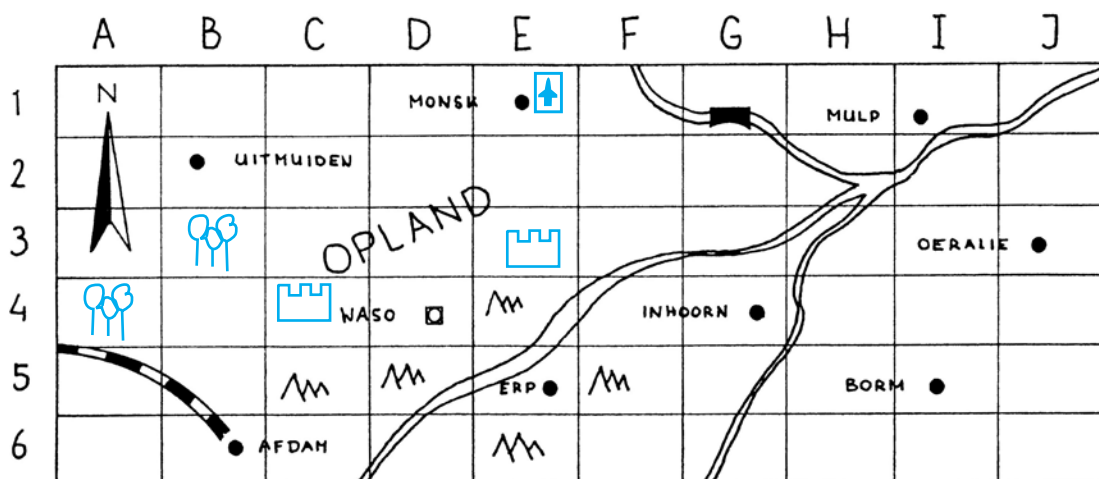
Omzet muziekzaak Het Fluitje



- a Bedroeg de omzet van de verkoop van gitaren meer dan 25%? 33,3%
- b Welk instrument werd het meest verkocht? Drumstellen

4

Bekijk de legenda en de kaart van Opland en maak daarna de opdrachten.



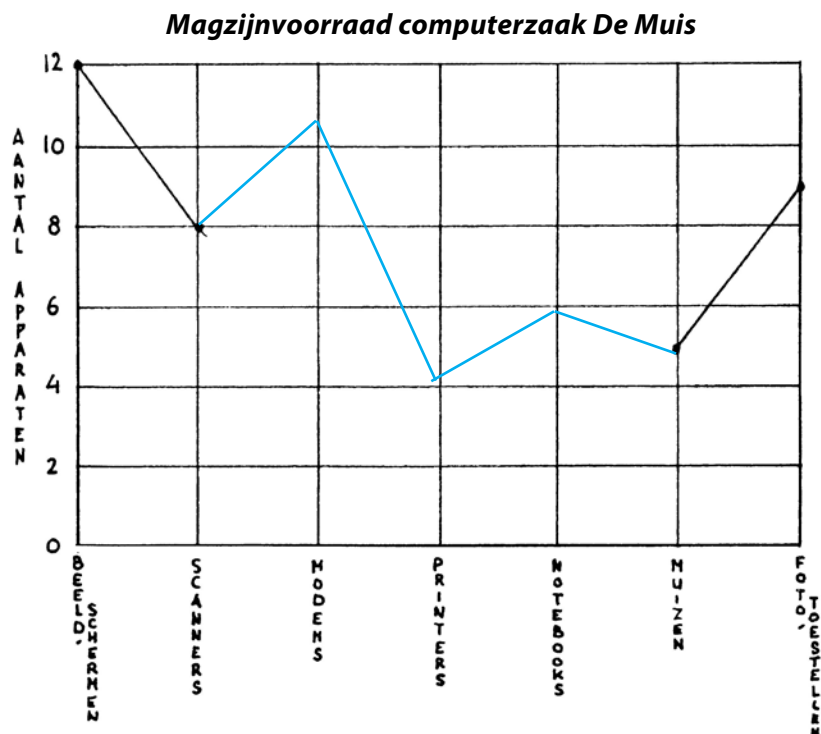
Legenda: Hoofdstad Stad Vliegveld Monument
 Loofbossen Dennenbossen Bergen

- a Welke stad ligt het meest oostelijk? Oeralie
- b De meest noordelijk gelegen stad heeft een vliegveld. Teken het vliegveld op de kaart.
- c In de vakken C4 en E3 vind je monumenten. Teken de monumenten op de kaart.
- d In de vakken A4 en B3 vind je loofbossen. Teken de loofbossen op de kaart.
- e In welke vakken vind je bergen? C5, D5, E4, E6, F5

1

Maak aan de hand van de gegevens de lijngrafiek af.

In het magazijn van computerzaak De Muis bevinden zich 12 beeldschermen, 8 scanners, 11 modems, 4 printers, 6 notebooks, 5 muizen en 9 foto toestellen.



2

Lees een stukje van de tekst die te vinden is op de spuitbus Stinkie Luchtverfrisser en maak daarna de vragen.

ZEER LICHT ONTVLAMBAAR!

Gebruik uit veiligheidsoverwegingen dit product alleen na het lezen van de gebruiksaanwijzing.

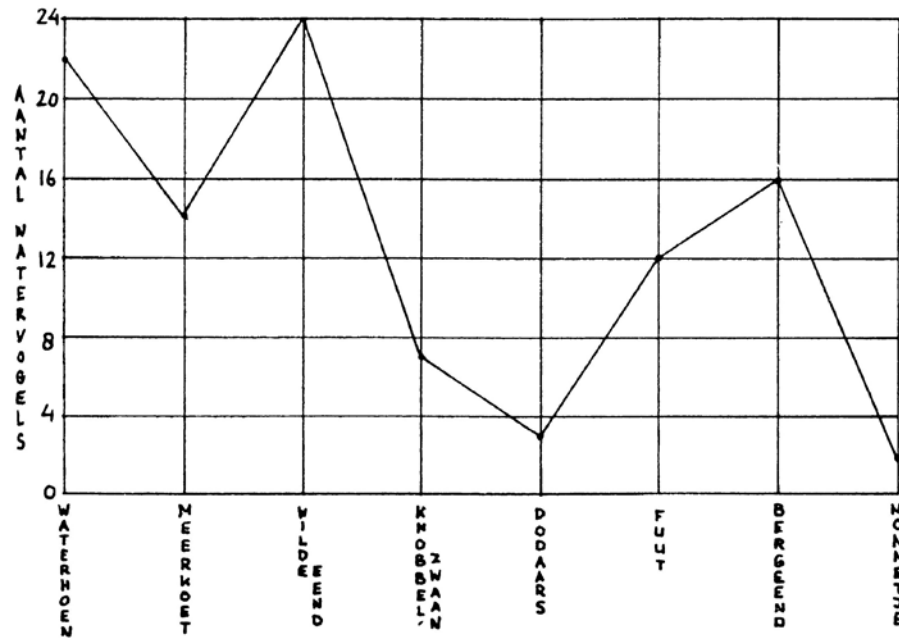
- Houd de spuitbus buiten het bereik van kinderen.
- Stel de spuitbus niet bloot aan temperaturen boven de 50°C.
- De spuitbus na gebruik niet verbranden of doorboren.
- Niet spuiten in de richting van een vlam, gloeiend voorwerp, de huid of ogen.
- Na gebruik goed ventileren.
- De spuitnevel nooit inademen in verband met verstikkingsgevaar.

- a De moeder van de vierjarige Sjakie zet ter voorkoming van een nare geur op het toilet de luchtverfrisser op de vloer van de toiletruimte neer. Schrijf op waarom zij dit beter niet kan doen. De spuitbus moet buiten bereik van kinderen gehouden worden.
- b De vader van Sjakie spuit ter voorkoming van een slechte adem wat spuitnevel van de toiletverfrisser in zijn mond. Waarom is dit niet verstandig? Inademen van luchtverfrisser kan verstikking veroorzaken.

3

Bekijk de lijngrafiek en maak daarna de vragen.

Waarnemingen van E.K. Ster tijdens een wandeling langs de Eemse Kreek



- a Welke vogel werd het meest waargenomen? Wilde end
- b Welke vogel werd het minst waargenomen? Nonnetje
- c Hoeveel vogels werden er in totaal waargenomen? 100 vogels
- d Wie nam de vogels waar? E.K. Ster

4

Zet een kruis door de rijtjes plaatsnamen die *niet* in de alfabetische volgorde staan.

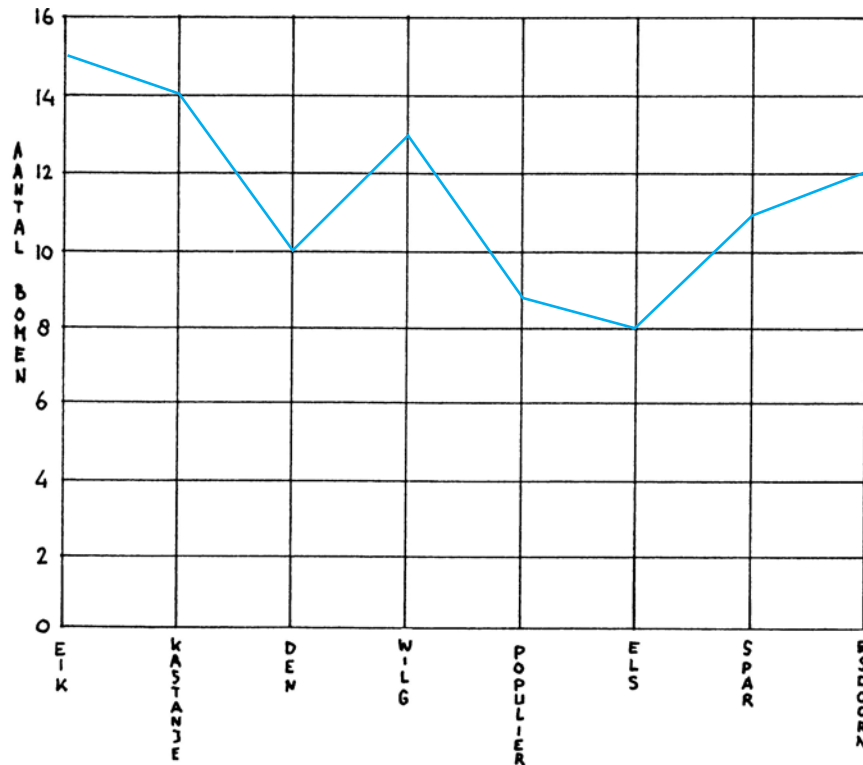
Baak	Gaanderen	Kaatsheuvel	Raalte
Baflo	Garderen	Kamperland	Renkum
Balkbrug	Geervliet	Kerkdriel	Ridderkerk
Bathmen	Geldrop	Kerkrade	Riethoven
Beek	Genemuiden	Klazienaveen	Rockanje
Belfeld	Goes	Kloetinge	Rossum
Beilen	Giethoorn	Klundert	Rotterdam
Beltrum	Gilze	Koewacht	Rouveen
Biggekerke	Gouda	Kollum	Rozenburg
Borculo	Gramsbergen	Kraggenburg	Rucphen
Breda	Groningen	Kudelstaart	Ruurlo

1

Maak van de volgende gegevens een lijngrafiek en maak daarna de vragen.

Natuurlijkhester Judith telde in park Kaalslag de volgende bomen: 15 eiken, 14 kastanjes, 10 dennen, 13 wilgen, 9 populieren, 8 elzen, 11 sparren en 12 esdoorns.

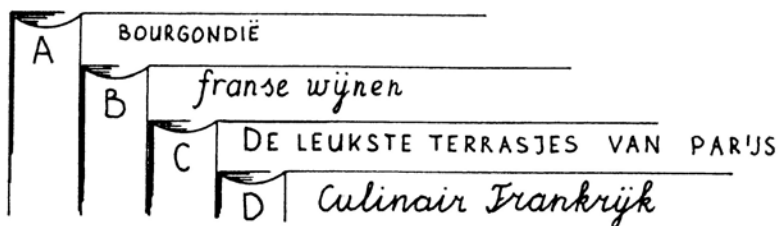
Inventarisatie van bomensoorten in park Kaalslag



- Welke bomen komen het meest voor in het park? **Eiken**
- Hoeveel bomen telde Judith in totaal? **92**
- Hoe heet het park waar Judith de bomen telde? **Kaalslag**
- Binnenkort worden alle eiken, kastanjes en esdoorns gesnoeid. Hoeveel bomen moeten er in totaal gesnoeid worden? **41**

2

Bekijk de titels op de boeken en maak daarna de vraag.



In welk boek vind je informatie over de Franse keuken? A – B – C – **D**

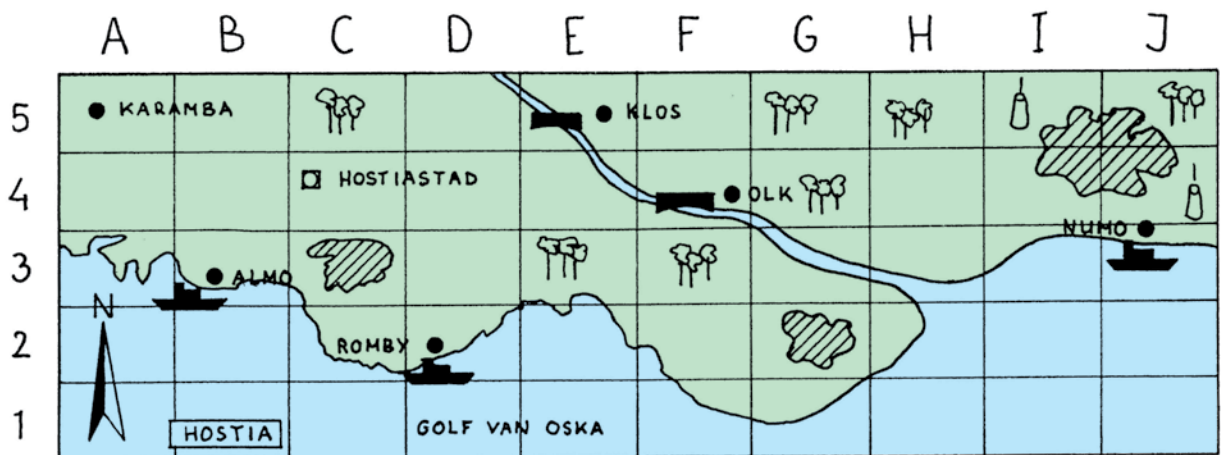
3**Lees een deel van de gebruiksaanwijzing van een e-mail en maak de vraag.**

Voeg het te verzenden document als een 'bijlage' toe in je e-mail. En verzend de e-mail.

Hoe verzend je een document als onderdeel van een e-mail? [toevoegen als bijlage via knop "Bestand"](#)

4**Bekijk de kaart en de legenda van Hostia en maak daarna de opdrachten.**

- a In welke vakken vind je meren? [C3, G2, I4, I5, J4, J5](#)
- b Hoeveel steden liggen ten westen van de hoofdstad? [2\(Karamba en Almo\)](#)
- c In welke vakken vind je vulkanen? [I5 en J4](#)
- d Welke haven ligt het meest zuidelijk? [de haven van Romby](#)
- e In welke vakken vind je bruggen? [E5 en F4](#)
- f Alleen in het meest oostelijke gelegen bos leven wilde zwijnen en damherten.
In welk vak ligt dit bos? [J5](#)
- g Kleur het land groen en het water blauw.

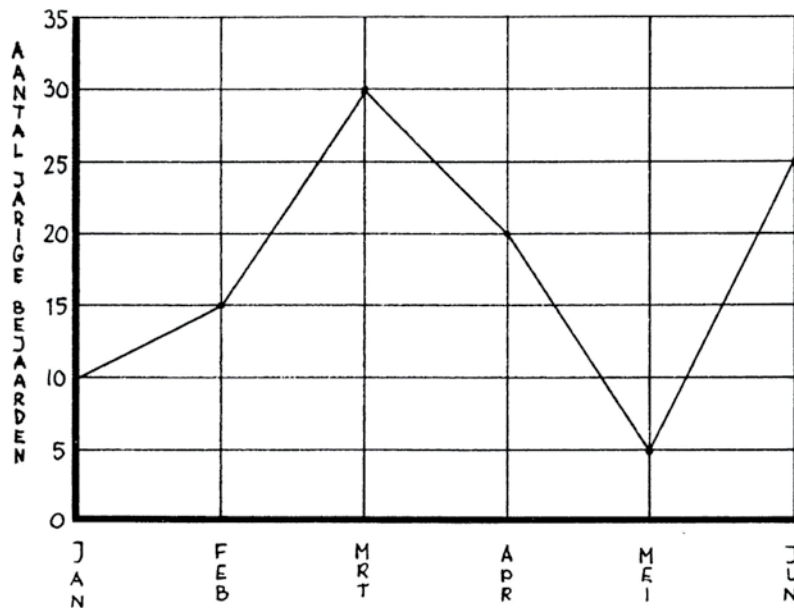


Legenda: □ Hoofdstad ● Stad Bergen Vulkaan Brug

Monument Loofbossen Meer

1 Bekijk de lijngrafiek en maak daarna de vragen.

Aantal jarigen in bejaardentehuis Morgenzon (periode januari t/m juni)



- a In welke maand zijn de meeste bejaarden jarig? **Maart**
- b In welke maand zijn de minste bejaarden jarig? **Juni**
- c In de maanden juli tot en met december zijn er 82 bejaarden jarig. Hoeveel bejaarden wonen er in Morgenzon **187 bejaarden**

2 Bekijk de onderstaande telefoongegevens, uit gemeente Amersfoort (033) en maak daarna de opdracht.

<p>① Hage D Coenstraat 22 1865 AS 22 33 45 Hakkert N Lijsterbesstraat 54 1866 RE 23 43 01</p>	<p>② Dasguney G B Heernisseweg 231 1876 FK 22 67 50 Dekker JH Nieuwstraat 87 1855 BV 22 09 70</p>
<p>③ Bouwens P Blokjesplaat 74 1866 FR 22 86 12 Bouwer L K M Kloosterweg 100 22 56 39</p>	<p>④ Zonder FG Falckstraat 102 1897 GH 22 45 67 Zoutewelle R Suiersteeg 345 1867 HH 22 09 78</p>
<p>⑤ Winter A Oostwal 765 1875 JH 22 39 08 Wirtz B Laantje van Oostdorp 34 1876 TT 22 45 55</p>	<p>⑥ Klumpes G. Gandilaan 45 1867 HT 22 09 10 Kluwen M M Rubenshof 35 1867 GG 22 78 12</p>

Zet deze stukjes in alfabetische volgorde.

3 2 1 6 5 4

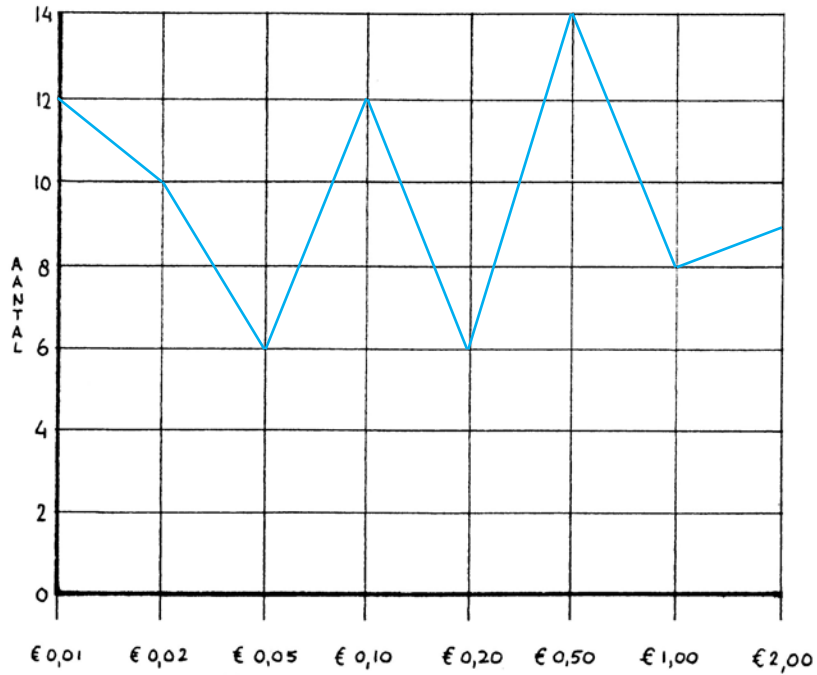
3

Maak met de onderstaande gegevens een lijngrafiek en maak daarna de vragen.

Fatima heeft de volgende munten in haar spaarpot:

12 munten van 1 cent, 10 munten van 2 cent, 6 munten van 5 cent, 12 munten van 10 cent, 6 munten van 20 cent, 14 munten van 50 cent, 8 euro's en 9 munten van 2 euro.

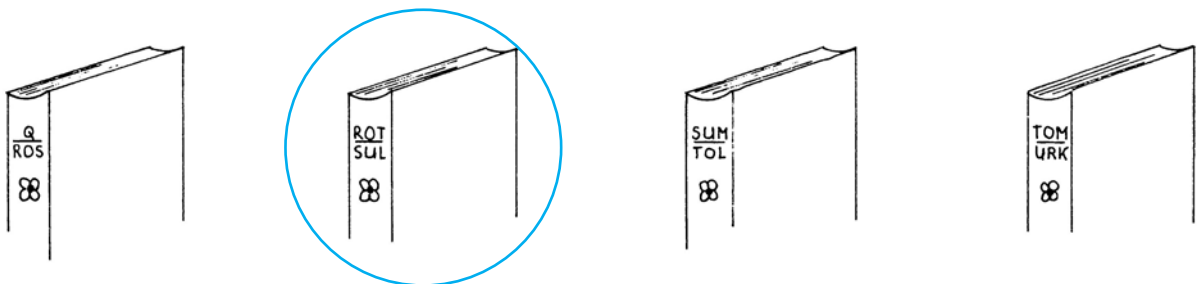
Geld in de spaarpot van Fatima



- a Welke munt heeft Fatima het meest in haar spaarpot? € 0.50
- b Hoeveel munten heeft ze in totaal in haar spaarpot? 77 munten

4

Omcirkel de encyclopedie waarin je informatie kunt vinden over Michiel de Ruyter.



1

Lees de informatie die op de flessen shampoo staat en maak daarna de vragen.

Hairclean
<ul style="list-style-type: none"> • Hairclean maakt uw haar zichtbaar glanzend. • Hairclean zorgt voor meer volume. • Hairclean is geschikt voor dagelijks gebruik. • Hairclean is weldadig voor de hoofdhuid.

Haarlijn
<ul style="list-style-type: none"> • Haarlijn voorkomt haaruitval. • 1 x per week wassen met Haarlijn voorkomt roos. • Haarlijn voedt het haar vanaf de wortel. • Haarlijn versterkt poreus haar.

Welk merk shampoo kunnen de volgende personen het beste gebruiken?

- a Aniek wil graag glanzend haar. **Hairclean**
- b Stefan wil van zijn roos af. **Haarlijn**
- c Peter zoekt een shampoo voor dagelijks gebruik. **Hairclean**
- d Fred heeft last van haaruitval. **Haarlijn**
- e Eva wil haar met meer volume. **Hairclean**

2

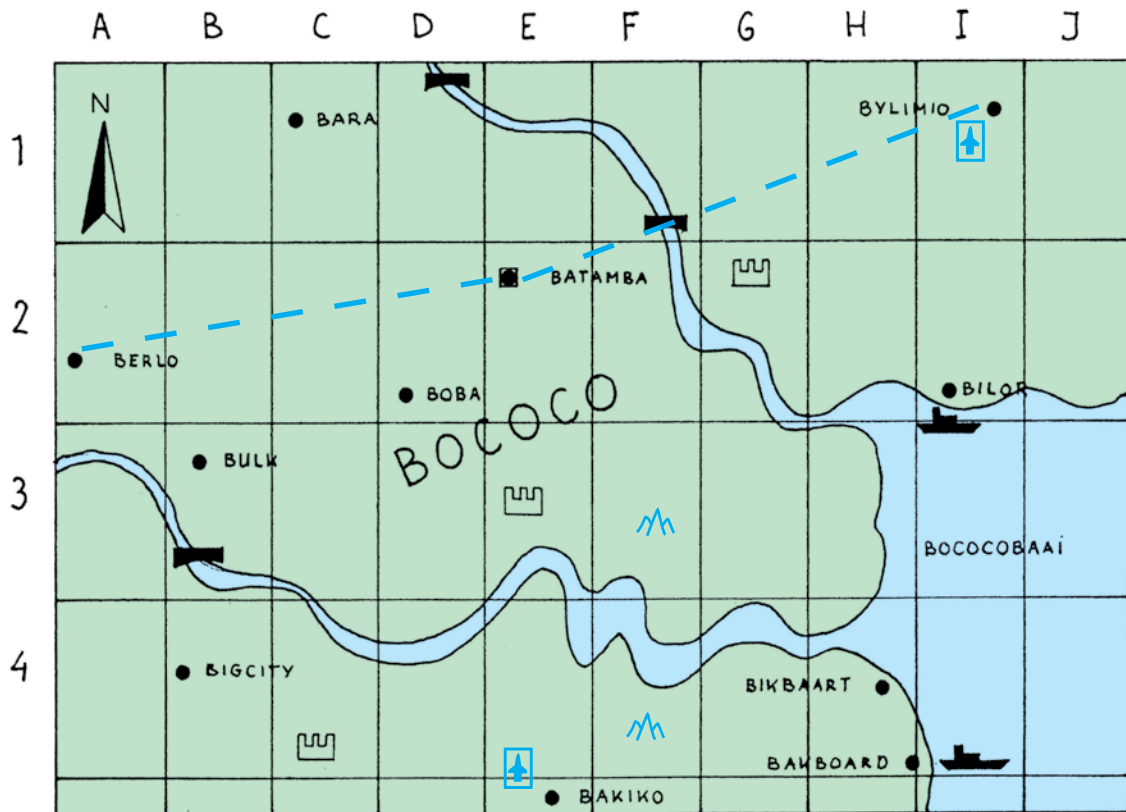
Bekijk de tabel met daarin een overzicht van de topcijfers van een aantal kinderen uit groep 7 en maak daarna de vragen.

	België	Duitsland	Frankrijk	Zweden	Spanje	Italië
Marlous	7	7	7	6	8	10
Victor	9	7	10	10	9	8
Roos	10	8	10	9	9	10
Aylin	8	6	9	–	8	8
Liza	9	7	7	8	9	8

- a Wie van de kinderen scoorde de meeste tien? **Roos**
- b Wie behaalde het hoogste cijfer voor de repetitie over Zweden? **Victor**
- c Welke repetitie werd het slechts gemaakt? **Duitsland**
- d Welke repetitie werd het best gemaakt? **Italië**
- e Eén van de kinderen miste door een verblijf in het ziekenhuis een repetitie. Wie was dat?
Aylin
- f Wat is het gemiddelde cijfer dat Liza behaalde? **8**

3

Bekijk de kaart en de legenda van Bococo en maak daarna de vragen.



Legenda: Hoofdstad Stad Vliegveld Spoorlijn
 Brug Haven Monument Bergen

- Welke steden zijn havensteden? **Bilor en Bakboord**
- In welke vakken vind je een monument? **C4, E3 en G2**
- De meest noordelijk gelegen stad en de meest zuidelijk gelegen stad hebben allebei een vliegveld. Teken de vliegvelden op de kaart.
- In vak F3 en F4 vind je bergen. Teken de bergen op de kaart.
- Verbind de hoofdstad door middel van een spoorlijn met de meest oostelijk gelegen stad en de meest westelijk gelegen stad.
- In welke vakken vind je bruggen? **B3 - D1 - F1**
- Kleur het land groen en het water blauw.

4

Zet de volgende woorden in alfabetische volgorde.

schaatsenrijder – schoorsteenmantel – schippersvrouw – scherpzinnig

- schaatsenrijder**
- scherpzinnig**
- schippersvrouw**
- schoorsteenmantel**

Les 14

1

Vul met de onderstaande gegevens de tabel in en maak daarna de vragen.

In week 1 werd er in Hasteren, in het noorden, een gemiddelde temperatuur gemeten van 5°C, in week 2 van 7°C, in week 3 van 9°C, in week 4 van 6°C en in week 5 van 10°C.

In week 1 werd er in Fluppia, in het zuiden, een gemiddelde temperatuur gemeten van 10°C, in week 2 van 13°C, in week 3 van 16°C, in week 4 van 13°C en in week 5 van 17°C.

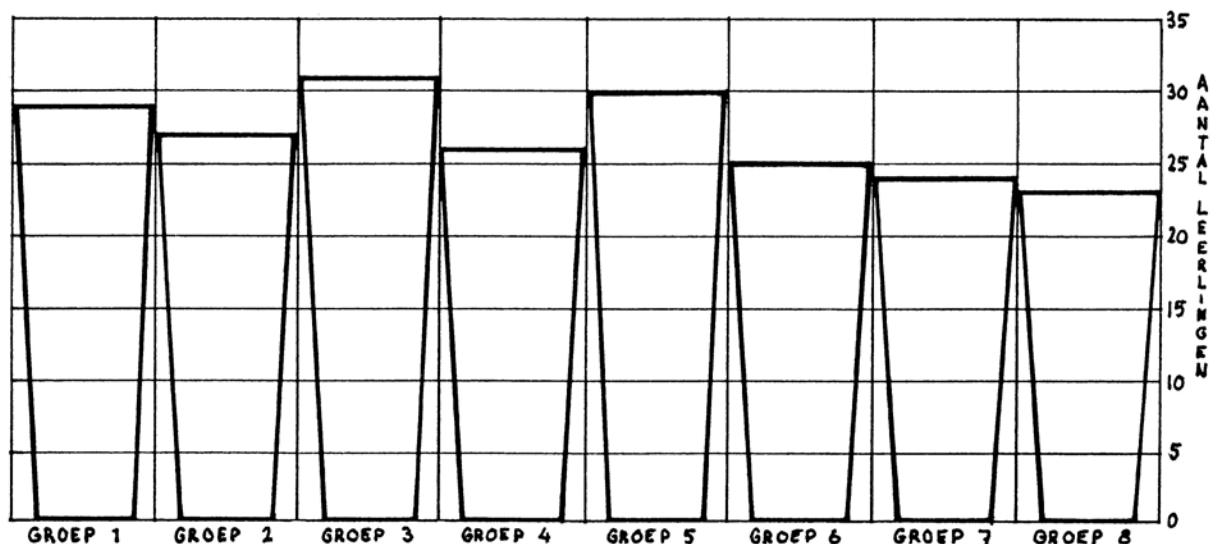
	Week 1	Week 2	Week 3	Week 4	Week 5
Hasteren	5	7	9	6	10
Fluppia	10	13	16	13	17

- a In welke week werden gemiddeld genomen de laagste temperaturen gemeten? week 1
- b Welke stad ligt het meest zuidelijk van de twee? Fluppia

2

Bekijk de staafdiagram en maak daarna de vragen.

Leerlingen op basisschool De Speelplaats



- a Hoeveel leerlingen zitten er in groep 7? 24 leerlingen
- b Hoeveel leerlingen zitten er in groep 1? 31 leerlingen
- c In welke groep zitten de meeste leerlingen? Groep 3
- d In welke groep zitten de minste leerlingen? Groep 8
- e Hoeveel leerlingen zitten er in totaal op De Speelplaats? 215 leerlingen

3

Lees een stukje uit het woordenboek en maak daarna de vraag.

Piercing, het aanbrengen van een ringetje door een lichaamsdeel.

Pierdood, morsdood.

Pierenleurder, m. Straatmuzikant die alleen werkt.

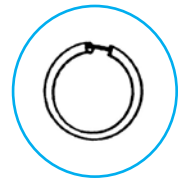
Pieren, wormen.

Pierenbad, o. Het ondiepe gedeelte van een zwembad.

Pierewiet, m. Grappenmaker.

Pierhaak, m. Lange stol met ijzeren haak.







Welk voorwerp wordt vaak na een piercing gedragen? Omcirkel dit.



4

Bekijk de legenda en de kaart van Osmolië en maak daarna de vragen.

	A	B	C	D	E	F	G	H	I	J
1		●					●	Monument	Bossen	
2			Bergen			●			Monument	Bossen
3	Vliegveld	Bergen	Vulkaan	Bossen	●		Hoofdstad		Bergen	●
4	Vliegveld	OSMOLIË		Monument	Bossen	Bossen		Monument	●	●

Legenda:  Hoofdstad ● Stad  Monument  Vliegveld
 Bergen  Bossen  Vulkaan

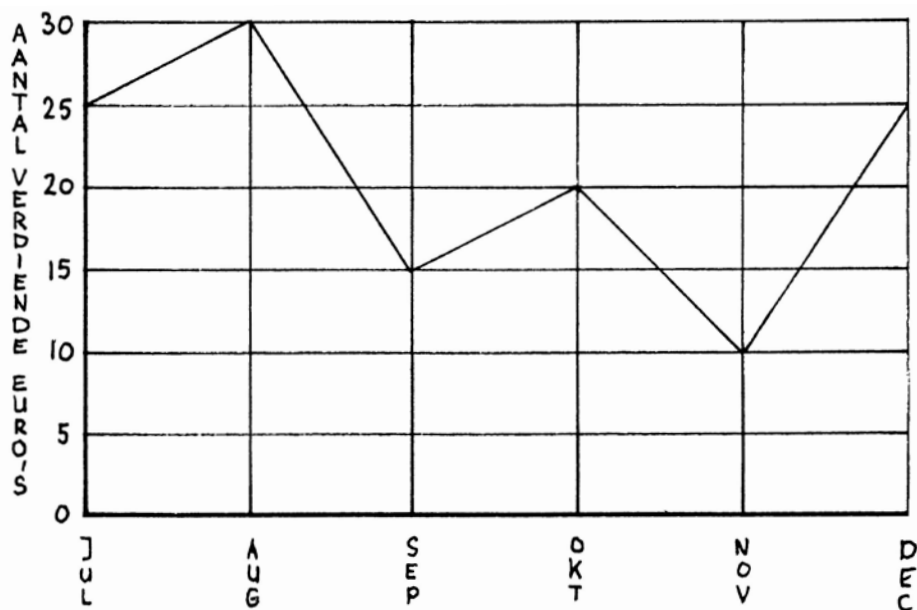
- a In welk vak ligt de hoofdstad? **G3**
- b In welke vakken liggen monumenten? **D4 - H1 - H4 - I2**
- c In welk vak ligt de vulkaan? **B3**
- d In welke vakken vind je bossen? **D3 - D4 - F4 - I1 - J2**
- e In welke vakken vind je bergen? **B3 - C2 - I3**
- f In welk vak vind je een vliegveld? **A4**

Les 15

1

Bekijk de lijngrafiek en maak daarna de vragen.

Door Chris verdiend geld met klussen



- In welke maand verdiende Chris het meest met klusjes? **Augustus**
- In welke maand verdiende Chris het minst met klusjes? **November**
- Hoeveel verdiende Chris in totaal met klussen? **€ 125,-**
- Buiten het geld dat Chris met klussen heeft verdiend heeft Chris € 125 gespaard. Chris is van plan om binnenkort een fiets te kopen van € 350. Hoeveel moet Chris nog sparen of bijklussen voordat hij de fiets kan kopen? **€ 100,-**

2

Bekijk de tabel over de verkoop van twee kranten en maak daarna de vragen.

Verkoop kranten Kiosk Carlos

	Week 1	Week 2	Week 3	Week 4	Week 5
Nieuwsblad	50	55	60	40	55
't Journaal	65	75	80	85	70

- Welke krant wordt het best verkocht? **'t Journaal**
- In welke week werden de meeste kranten verkocht? **Week 3**
- In welke weken werden er evenveel kranten van het Nieuwsblad verkocht? **Week 2 en 5**
- Hoe heet de kiosk waar de kranten verkocht worden? **Carlos**

3

Bekijk de inhoudsopgave van een boek over het Oude Rome en maak daarna de vragen.

Hoofdstuk 1	Het ontstaan van Rome	Blz. 4 t/m 8
Hoofdstuk 2	Bestuur en handel	Blz. 9 t/m 12
Hoofdstuk 3	Het dagelijkse leven	Blz. 13 t/m 20
Hoofdstuk 4	Het badhuis	Blz. 21 t/m 24
Hoofdstuk 5	Eten en drinken	Blz. 25 t/m 30
Hoofdstuk 6	Godsdienst en goden	Blz. 31 t/m 35
Hoofdstuk 7	Keizers	Blz. 36 t/m 40
Hoofdstuk 8	Jaartallen	Blz. 41
Inhoudsopgave		Blz. 42

- a Welk hoofdstuk is het langst? **Hoofdstuk 3**
- b Welk hoofdstuk is het kortst? **Hoofdstuk 8**
- c In het boek staan verschillende plaatjes. Geef aan in welk hoofdstuk deze plaatjes terug te vinden zijn:
- Een plaatje van Romeinen die zich wassen. Hfst. **4**
- Een plaatje van een marktplein. Hfst. **2**
- Een plaatje van een maaltijd. Hfst. **5**

4

Zet de volgende woorden in alfabetische volgorde.

schrijfmachine – dynamo – telegraaf – grammofoon – gloeilamp – loopfiets

- 1 **dynamo**
- 2 **gloeilamp**
- 3 **grammofoon**
- 4 **loopfiets**
- 5 **schrijfmachine**
- 6 **telegraaf**

dame – looper – pion – toren – paard – koning

- 1 **dame**
- 2 **koning**
- 3 **loper**
- 4 **paard**
- 5 **pion**
- 6 **toren**

Les 16

1

Bekijk de tabel over de gemeten dikte van natuurijs in verschillende plaatsen. Maak daarna de vragen.

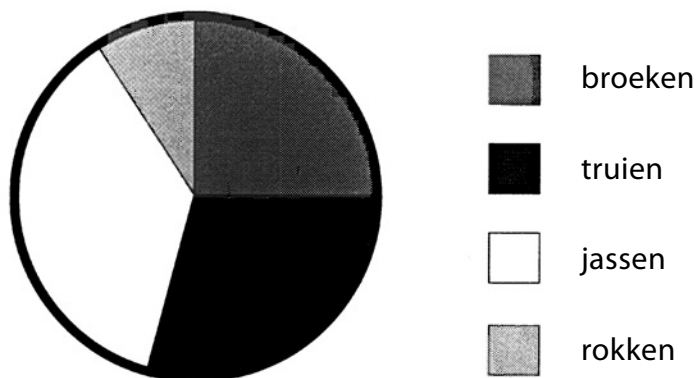
	maandag	dinsdag	woensdag	donderdag	vrijdag	zaterdag	zondag
Noordstad	8 cm	9 cm	12 cm	12 cm	13 cm	14 cm	15 cm
Ijssele	12 cm	14 cm	15 cm	18 cm	17 cm	19 cm	20 cm
Koudebrug	4 cm	5 cm	5 cm	3 cm	3 cm	–	–

- a In welke plaats werd het ijs steeds iets dikker? Noordstad
- b In welke plaats is het ijs het meest betrouwbaar? Ijssele
- c Welke plaats ligt waarschijnlijk het meest noordelijk? Ijssele
- d In één van de plaatsen vroom het niet meer. In welke plaats denk je? Koudebrug

2

Bekijk het cirkeldiagram en maak daarna de vragen.

Verkoopcijfers week 33 kledingzaak Shorts



- a Welk artikel werd het meest verkocht? jassen
- b Welk artikel werd het minst verkocht? rokken

3

Lees de advertentie in de rubriek **TE HUUR** en maak daarna de vragen.

TE HUUR

Op een A1 toplocatie bieden wij aan:

Een in uitstekende staat verkerend winkelpand met een oppervlakte van 200 vierkante meter. Verder beschikt het pand over een opslagruimte, een wc, kantoor en archiefruimte.

De huurprijs per maand bedraagt € 2500,--.

Voor informatie kunt u bellen naar Makelaarskantoor Krot tel. 0987-550022
Betonrotstraat 55, 7720 AA Huisland.

- a Wie kun je bellen voor informatie? **Makelaarskantoor Krot**
- b Ondernemer Z. Aakje is op zoek naar een winkelpand van ongeveer 175 vierkante meter met een kantoor, een keuken, enkele wc's, een opslagruimte en een personeelsruimte. Z. Aakje wil niet gaan verbouwen. Is het in de advertentie genoemde pand hiervoor geschikt?
Nee
- c Hoeveel bedraagt de huurprijs van de winkel per jaar? **€ 30.000,-**

4

Bekijk het rittenschema van vervoersbedrijf Snelweg en maak daarna de vragen.

	Ritnummer 12	Ritnummer 14	Ritnummer 16	Ritnummer 18
Halte Straatweg	8.10 uur	8.40 uur	9.10 uur	9.40 uur
Halte P. Potterlaan	8.20 uur	8.50 uur	9.20 uur	9.50 uur
Halte Kalkoenstraat	8.35 uur	9.05 uur	9.35 uur	10.05 uur
Halte Banaanplein	8.55 uur	9.25 uur	9.55 uur	10.25 uur

- a Hoe laat vertrekt ritnummer 12 vanaf de Kalkoenstraat? **8.35 uur**
- b De oma van Jan woont op het Banaanplein. Jan heeft met zijn oma afgesproken dat hij om 10.00 uur bij haar zal zijn. Jan vertrekt vanaf de Straatweg. Hoe laat moet Jan bij de eerste halte zijn? **9.10 uur**
- c Hoe laat vertrekt rit 20 vanaf de Straatweg? **10.10 uur**

5

Zet een kruis door de rijen die *niet* op alfabetische volgorde staan.

tafelzilver	kapstok	garagebox	zaagblad
tandwiel	kattenpension	gasmeter	zangles
tennisbaan	kerstpakket	gedenkplaat	zeefdrukken
touringcar	kinderbril	groothandel	zeepieren
trekhaak	klittenband	geluidsmeter	zilverwerk
tribune	kleerhanger	gieterij	zonnebank
trimsalon	knopenfabriek	gipsplaat	zuurstof
tuinhekje	kozijnen	glasvezel	zwemvest

Les 17

1

Bekijk de tabel met de laag- en hoogwaterstanden en maak daarna de vragen.

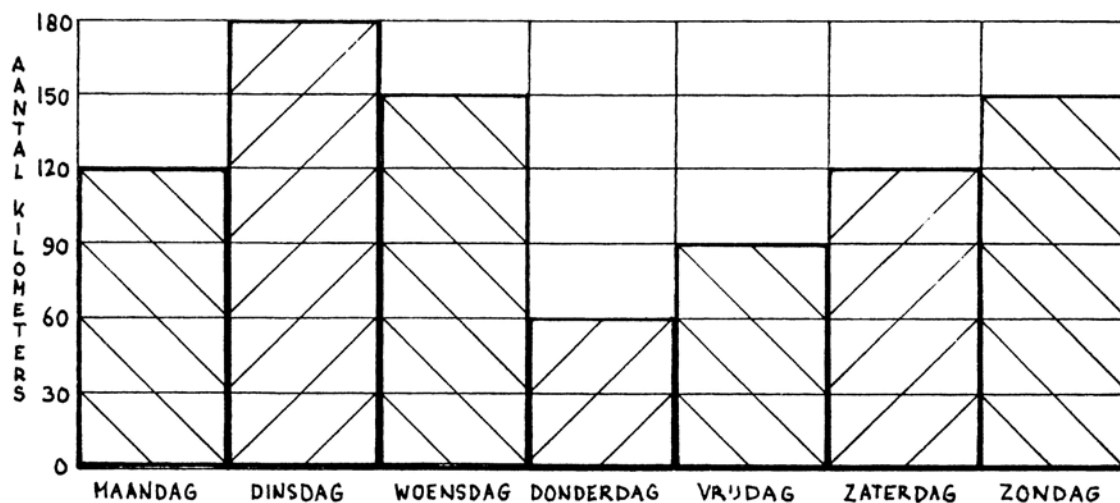
Datum	Hoogwater	Laagwater
1 juli – donderdag	4.26 uur 16.46 uur	10.46 uur 23.09 uur
2 juli – vrijdag	4.57 uur 17.19 uur	11.20 uur 23.45 uur
3 juli – zaterdag	5.35 uur 17.35 uur	11.58 uur --
4 juli – zondag	6.15 uur 18.37 uur	0.30 uur 12.35 uur
5 juli – maandag	7.01 uur 19.28 uur	1.16 uur 13.26 uur
6 juli – dinsdag	8.00 uur 20.29 uur	2.05 uur 14.15 uur
7 juli – woensdag	9.06 uur 21.36 uur	2.55 uur 15.20 uur

- a Hoe laat is het op donderdagochtend 1 juli hoogwater? **4.26 uur**
- b Hoe laat is het op dinsdagmiddag 6 juli laagwater? **14.15 uur**
- c Hoe vaak is het op zaterdag 4 juli laagwater? **1 keer**
- d Kapitein Storm wil op dinsdagochtend met hoogwater uit de haven vetrekken. Hoe laat moet de kapitein wegvaren? **De kapitein moet om 8.00 uur wegvaren.**

2

Bekijk de staafdiagram en maak daarna de vragen.

Trainingsritten wielrenner Jaap Zuremelk



- a Op welke dag trainde Zuremelk het meest? op dinsdag
- b Op welke dag trainde Jaap het minst? op donderdag
- c Hoeveel kilometer trainde Jaap deze week in totaal? 870 kilometer

3

Verwerk de taalcijfers van Said, Marcha en Ruben in een tabel. Maak daarna de vragen.

Said behaalde voor taalles 1 een 7, voor les 2 een 8, voor les 3 een 7, voor les 4 een 8 en voor les 5 een 9.

Marcha behaalde voor de eerste les een 9, voor de tweede les een 9, voor de derde les een 8, voor de vierde les een 6 en voor de vijfde les een 9.

Ruben scoorde voor de eerste les een 8, voor de tweede les een 7, voor les 3 een 9, voor les vier een 5 en voor les 5 een 6.



Cijfers voor de taallessen

	Taalles 1	Taalles 2	Taalles 3	Taalles 4	Taalles 5
Said	7	8	7	8	9
Marcha	9	6	8	6	9
Ruben	8	7	9	5	6

- a Wie behaalde voor de vierde taalles het beste cijfer? Said
- b Wie behaalde voor de eerste taalles het slechtste cijfer? Said
- c Wie scoorde in deze periode het best voor taal? Said

4

Sandrina wil iets weten over de leiders van het Russische volk. Omcirkel het boek waarin zij het beste kan zoeken.



1

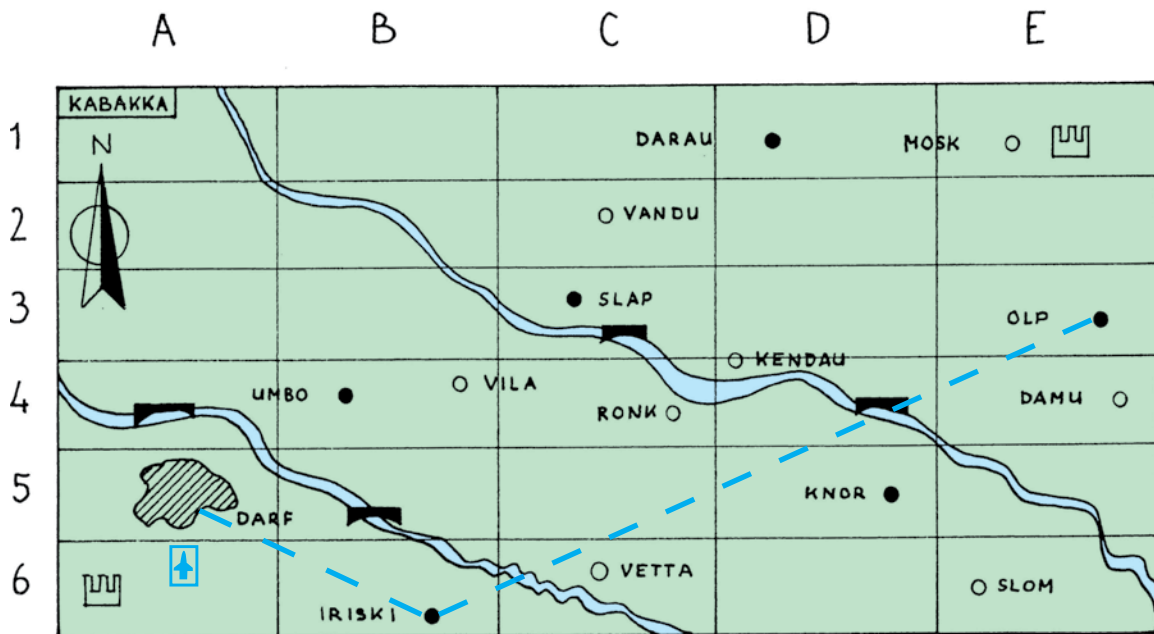
Bekijk de tabel over de vetrektijden van de tram en maak daarna de vragen.

	Ritnummer 20	Ritnummer 22	Ritnummer 24	Ritnummer 26
Halte Houtwal	12.05 uur	12.35 uur	13.05 uur	13.35 uur
Halte Heideveld	12.10 uur	12.40 uur	13.10 uur	13.40 uur
Halte Groenplaats	12.20 uur	12.50 uur	13.20 uur	13.50 uur
Halte Vrijdomweg	12.35 uur	13.05 uur	13.35 uur	14.05 uur

- a Tussen welke haltes zit de langste rit? Tussen de halte Groenplaats en halte Vrijdomweg
- b Tussen welke haltes zit de kortste rit? Tussen de halte Houtwal en halte Heideveld
- c Michiel woont op Heideveld 3. Hij wil om 13.50 uur op de Vrijdomweg zijn. Met welk ritnummer kan hij het beste meegaan? ritnummer 24
- d Hoe laat vertrekt ritnummer 28 vanaf de Houtwal? 14.05 uur

2

Bekijk de legenda en de kaart van Kabakka en maak daarna de vragen.



Legenda: Hoofdstad Stad Dorp Spoorlijn
 Vliegveld Brug Monument

- a Vind je meer dorpen of meer steden op de kaart? evenveel
- b In welke vakken vind je bruggen? A4 - B5 - C3 - D4
- c In welke vakken vind je monumenten? A6 - E1
- d Verbind de meest zuidelijk gelegen stad door middel van een spoorlijn met de hoofdstad.

- e Verbind de meest oostelijk gelegen stad door middel van een spoorlijn met de meest zuidelijk gelegen stad.
- f Ten noorden van de hoofdstad ligt een vliegveld. Teken het vliegveld op de kaart.
- g Wat is het meest noordelijk gelegen dorp? Mosk
- h Wat is het meest westelijk gelegen dorp? Vila
- i Kleur het land groen en het water blauw.

3

Vul met onderstaande gegevens de tabel in.

Journalisten Debora en Anton worden door het Nieuwsblad Alert per artikel betaald. Voor Anton en Debora is het daarom heel belangrijk dat ze goed bijhouden hoeveel artikelen ze schrijven elke week.

Debora schreef in week 6 zeven artikelen, in week 7 schreef ze zes artikelen, in week 8 tien artikelen, in week 9 zeven artikelen en in week 10 vijf artikelen.

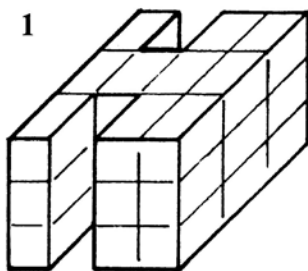
Anton schreef in week 6 negen artikelen, in week 7 zes artikelen, in week 8 acht artikelen, in week 9 twaalf artikelen en in week 10 vijf artikelen.

Aantal geschreven artikelen

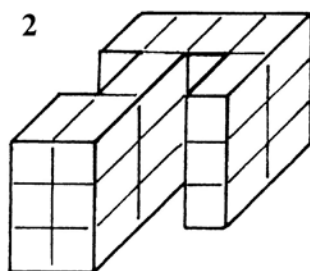
	Week 6	Week 7	Week 8	Week 9	Week 10
Debora	7	6	10	7	5
Anton	9	6	8	12	5

- a Wie schreef in week 9 de meeste artikelen? Anton
- b Hoeveel artikelen schreef Debora in week 10? 35
- c Hoeveel artikelen schreef Anton in week 8? 40
- d Per artikel ontvangen Debora en Anton € 75,-. Hoeveel verdienen zij in week 7?
 Debora € 450,-
 Anton € 450,-
- e Hoe heet het nieuwsblad waarvoor Debora en Anton werken? Alert
- f Hoeveel verdienen zij in totaal in deze vijf weken?
 Debora € 2625,-
 Anton € 3000,-

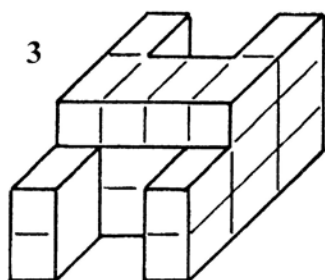
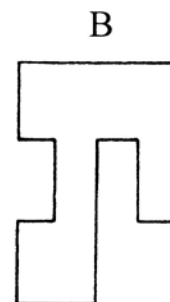
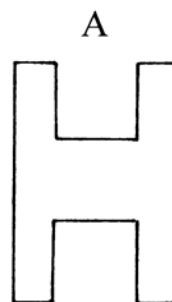
1 Geef onder de gestapelde blokjes aan welke plattegrond erbij hoort.



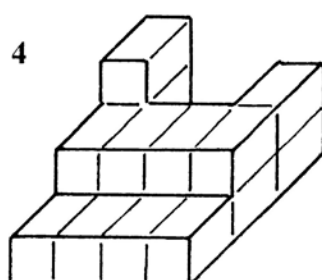
plattegrond D



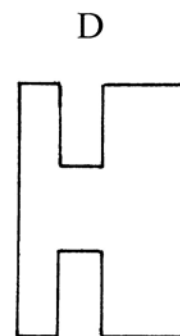
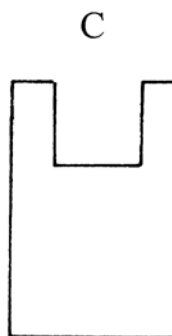
plattegrond A



plattegrond B



plattegrond C



2 Lees de advertentie van reisbureau Traveltime en maak daarna de vragen.

Advertentie.



Traveltime



Traveltime biedt een prachtige 10-daagse reis door EGYPTE aan.

Vertrek: iedere dinsdag vanaf luchthaven Schophil in de maanden mei tot en met augustus. U maakt kennis met de Arabische cultuur en neemt deel aan een driedaagse rondvaart over de levensader van Egypte: de rivier de Nijl.

De overige dagen verblijft u in een 5-sterrenhotel aan het strand van de Rode Zee. De kosten van deze fascinerende reis bedragen € 950,- pp. Tegen een toeslag van € 175,- pp. kunt u ons excursiepakket boeken. De excursies bestaan uit een bezoek aan de tempels en aan de hoofdstad Caïro. De vliegreis van Schophil-Caïro is inbegrepen. Niet inbegrepen zijn alle maaltijden, het visum, toeristenbelasting en verzekering.

Bel voor boekingen naar **Traveltime** 0989-22 00 00 of boek via internet www.traveltime.nl.

Ons reisbureau kunt u vinden aan de Roggenkaai 73, te Burgwaard.

Alle dagen, behalve op zondag, geopend van 10.00 uur tot 17.30 uur.








































- a Hoe lang duurt de aangeboden reis? 10 dagen
- b Miranda en Henk willen samen deze reis boeken. Ze willen ook de excursies erbij.
Hoeveel gaat dat kosten? € 2250,-


- c Miranda boekt via internet. Welke website moet ze opzoeken? www.traveltime.nl
- d Vanaf welk vliegveld vertrekt de reis? [Schophil](#)
- e In welke plaats is het reisbureau gevestigd? [Burgwaard](#)

3

Bekijk het onderstaande beelddiagram en maak daarna de vragen.

Verkoopcijfers klokkenwinkel Twaalt uur

Juli	       
Augustus	    
September	      
Oktober	     
November	   
December	        

 = 5 klokken.

- a Hoeveel klokken werden er in augustus verkocht? [25 stuks](#)
- b In welke maand werden de meeste klokken verkocht? [In december](#)
- c Hoeveel klokken werden er in totaal verkocht? [195 stuks](#)
- d De gemiddelde verkoopprijs van een klok is € 50,-. Hoeveel bedroeg de omzet van de winkel deze zes maanden? [€ 9750,-](#)

4

Zet de volgende woorden in alfabetische volgorde.

koekenbakker – kwelgeest – blaaskaak – putjesschepper – smeerkees

- a [blaasbak](#)
- b [koekenbakker](#)
- c [kwelgeest](#)
- d [putjesschepper](#)
- e [smeerkees](#)

1

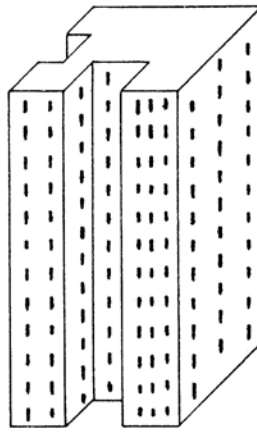
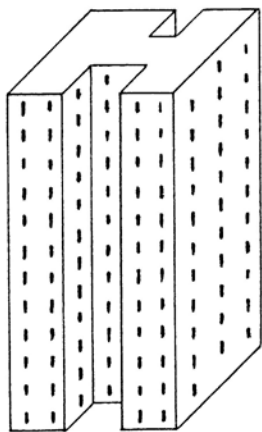
Bekijk het overzicht van de onderwerpen die in 't Nieuwsblad staan en maak daarna de vragen.

Vandaag	
Binnenland.....	2,3,4,5
Familieberichten.....	6
Buitenland.....	7,8
Economie.....	9,10
Televisie.....	11
Sport.....	12,13,14
Weer, strips.....	15,16

- a Uit hoeveel pagina's bestaat het Nieuwsblad? 16 pagina's
- b Aan welk onderwerp wordt de meeste aandacht besteed? Binnenlandse berichten
- c Michelle wil weten hoe haar favoriete voetbalclub gespeeld heeft. Op welke bladzijden moet ze zoeken? op blz. 12, 13 of 14
- d Abraham is gek op strips. Op welke bladzijden zijn er strips te vinden? op blz. 15 en 16

2

Bekijk de plaatjes van de flats en geef daarna aan welke plattegrond bij de flat hoort.



A

B



C

D



plattegrond A

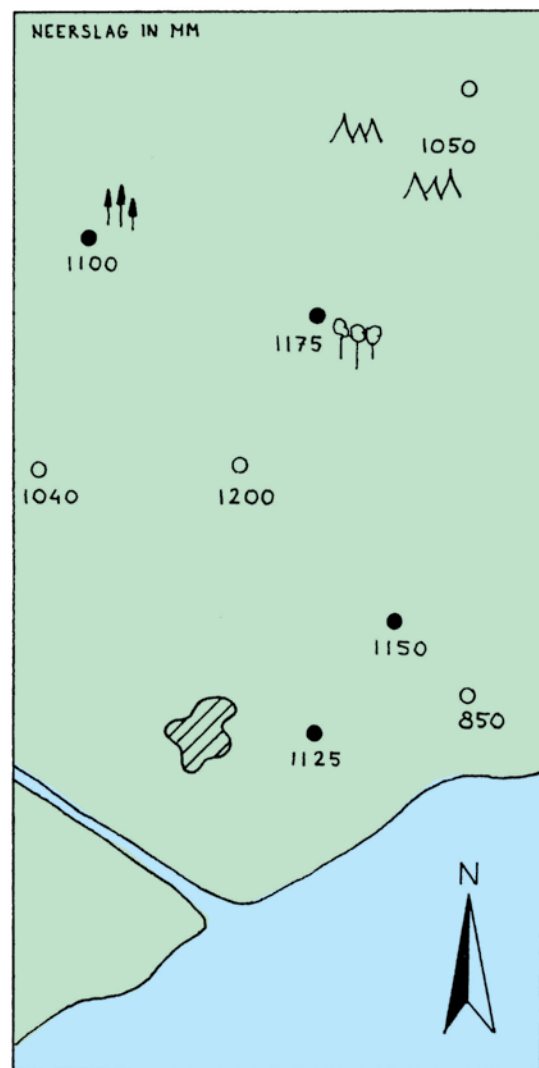
plattegrond D

Bekijk de legenda en de kaarten van het eiland Zomalië en maak daarna de vragen.

Staatkundige kaart



Neerslag per jaar in Zomalië



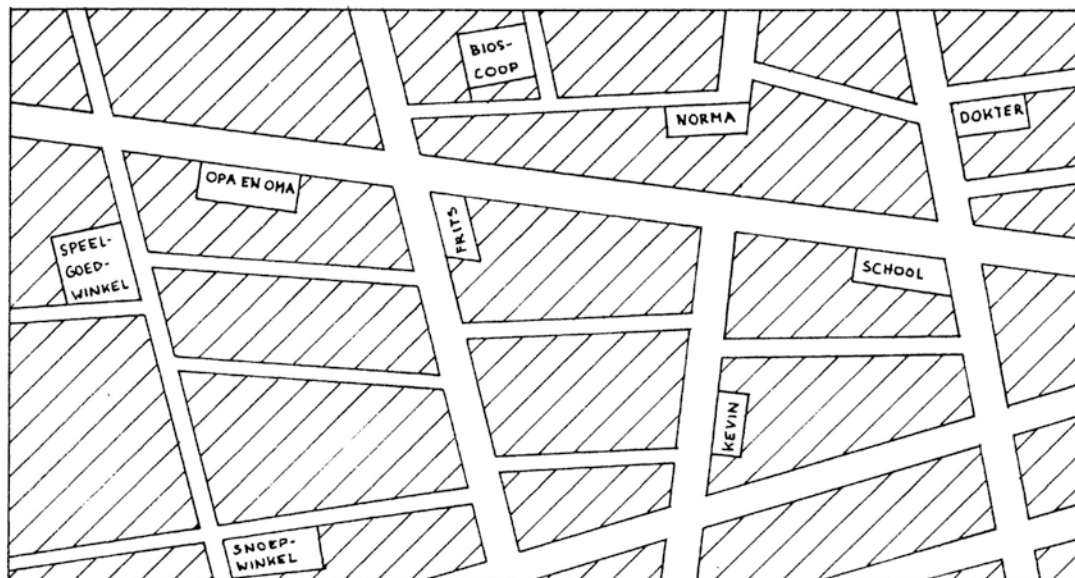
Legenda:  Hoofdstad ● Stad ○ Dorp  Spoorlijn
 Dennenbos  Bergen  Loofbos

- In welke stad of dorp valt de meeste regen? In Ziezola
- In welke stad of dorp valt de minste regen? In Zindy
- Verbind de hoofdstad door middel van een spoorlijn met de meest oostelijk gelegen stad.
- Hoeveel regen valt er in het berggebied? 1050 mm
- Eén van de steden op het eiland heeft als symbool een dennenbos.
Welke stad is dat? Zombo
- Kleur het land groen en het water blauw.

Les 21

1

Bekijk de plattegrond van een deel van de stad Berg op Zand en maak daarna de vragen.



- a Lees de beschrijving van de route en geef aan waar Kevin uitkomt.

Kevin staat met zijn rug naar de voordeur van zijn eigen huis en gaat rechtsaf, daarna de eerste straat links, de eerste rechts en de eerste links.

Kevin komt uit bij de bioscoop

- b Omschrijf de route van het huis van Kevin naar de snoepwinkel.

Kevin staat met zijn rug naar zijn eigen huis en gaat linksaf,

daarna rechts, links en weer rechts.

2

Lees de testresultaten van twee fietsen en maak daarna de vraag.

Trappa Roma

- fraai uiterlijk
- rijdt redelijk licht
- komt gemakkelijk op snelheid
- gewicht 18,2 kilogram
- stuurt matig

Trappa Valencia

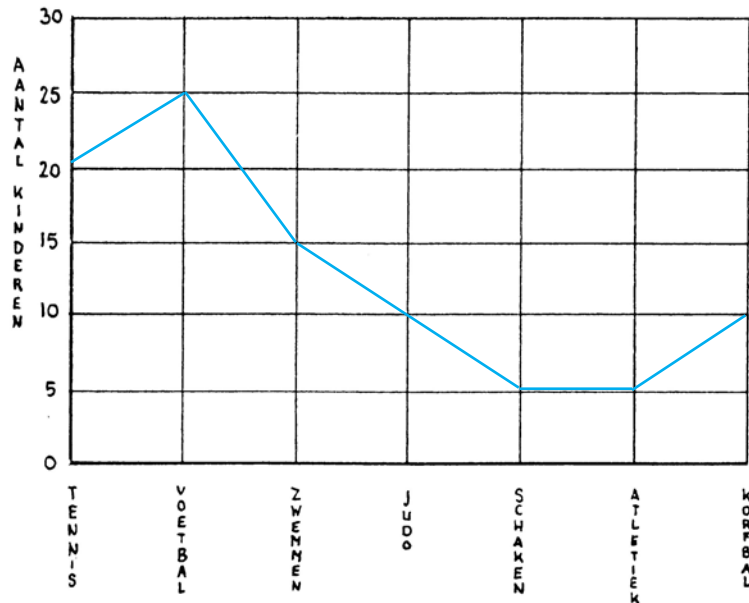

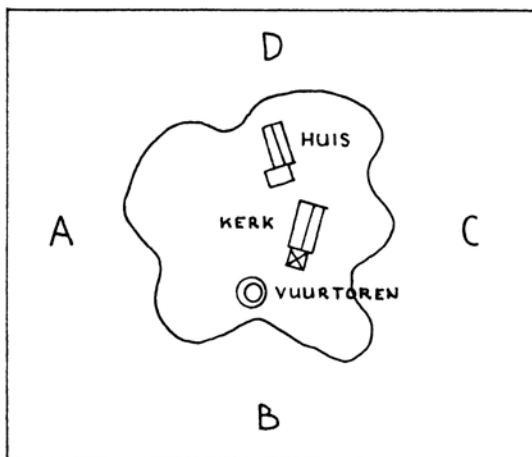
- degelijke stadsfiets
- rijdt zeer licht
- veel comfort
- gewicht 7,8 kilogram
- stuurt prettig

Welke fiets kreeg de beste beoordeling? De Trappa Valencia

3**Maak aan de hand van de gegevens de lijngrafiek.**

Olga heeft aan alle leerlingen van de bovenbouw gevraagd welke sport bij hen favoriet is. De uitslag van haar onderzoek was als volgt:

Tennis werd door 20 kinderen gekozen, voetbal door 25 kinderen, zwemmen door 15 kinderen, judo door 10 kinderen, schaken door 5 kinderen, atletiek werd door 5 kinderen gekozen en korfbal door 10 kinderen.

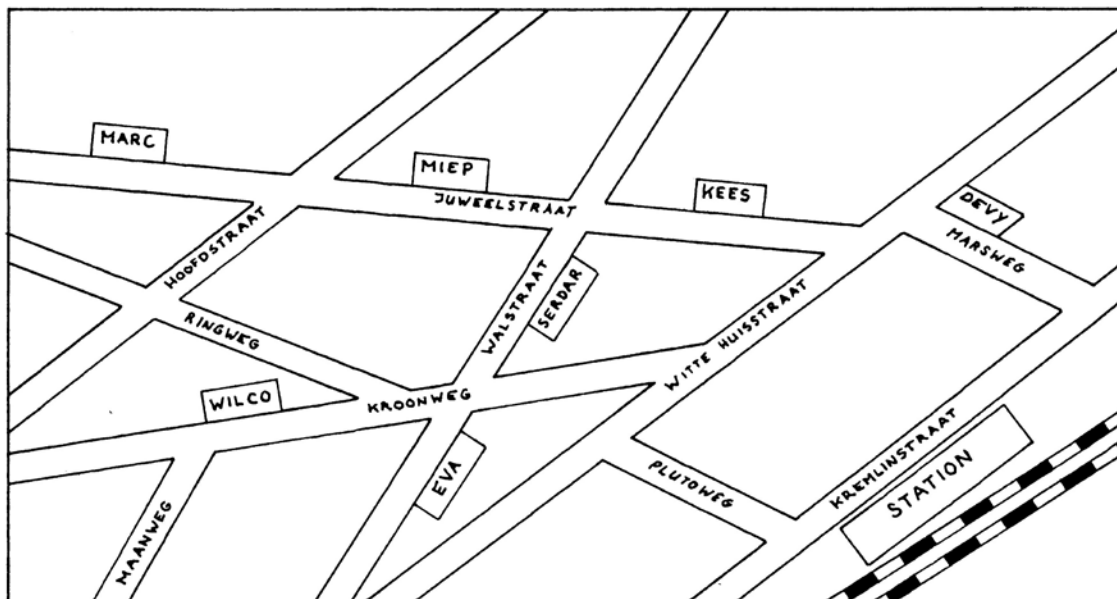
Favoriete sporten bovenbouw kinderen**4****Bekijk de kaart van het eiland en de tekening van het eiland en maak daarna de opdracht.**

Henri maakte de tekening tijdens een rondvaart rond het eiland. Geef aan vanaf welke plaats

(A, B, C, D) Henri de tekening maakte. **C**

1

Bekijk een deel van de stadsplattegrond van Hemsterdem. Maak daarna de vragen.



- a Wie woont het dichtst bij het station? **Deuy**
- b Wie woont het verst van het station? **Marc**
- c Van welke straat is de Maanweg een zijstraat? **Van de Kroonweg**
- d Hoeveel zijstraten komen er op de Kremlinstraat uit? **2**

2

Bekijk de advertentie en maak daarna de vragen.

Advertentie

OPHEFFING MEUBELPARADIJS DE SLAAPBANK

Wegens beëindiging van het huurcontract zijn wij genoodzaakt om ons meubelparadijs, gevestigd aan de Tafelbaai 876, Atrecht, te moeten stoppen.

We bieden onze design meubelen, onze koloniale meubelen en onze grote voorraad bankstellen te koop aan, voor de helft van de prijs. Onze showmodellen verkopen we met een korting van 70%. Uiteraard wordt alles gratis thuisbezorgd en bovendien geven we op al onze verkochte producten een garantie van één jaar.

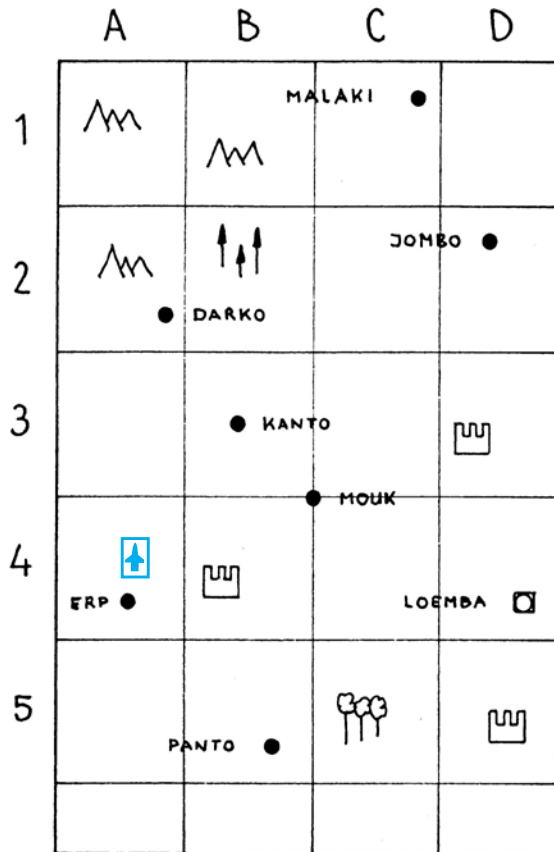
Ons meubelparadijs is geopend van woensdag tot en met zaterdag van 10.00 uur tot 17.30 uur. Op vrijdagavond is het koopavond tot 21.00 uur. We zijn nog geopend tot en met 31 mei.

- a Hoe heet het meubelparadijs? **De Slaapbank**
- b Waarom wordt het bedrijf stopgezet? **Wegens beëindiging van het huurcontract**
- c Hoeveel garantie wordt er op de verkochte meubels gegeven? **1 jaar garantie**
- d Hoeveel korting wordt er gegevens op de modellen uit de showroom? **70%**

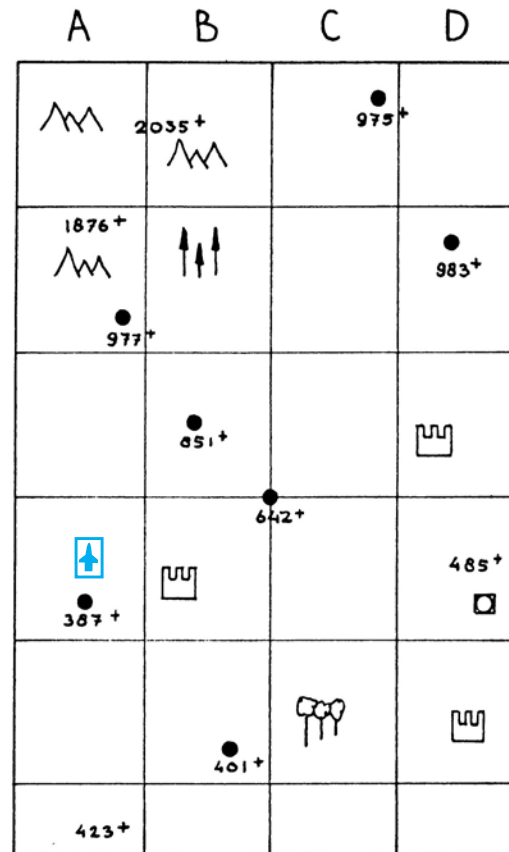
3


Bekijk de staatkundige kaart en de hoogtekaart van Borawesie.
Maak daarna de vragen.

Staatkundige kaart



Hoogtekaart

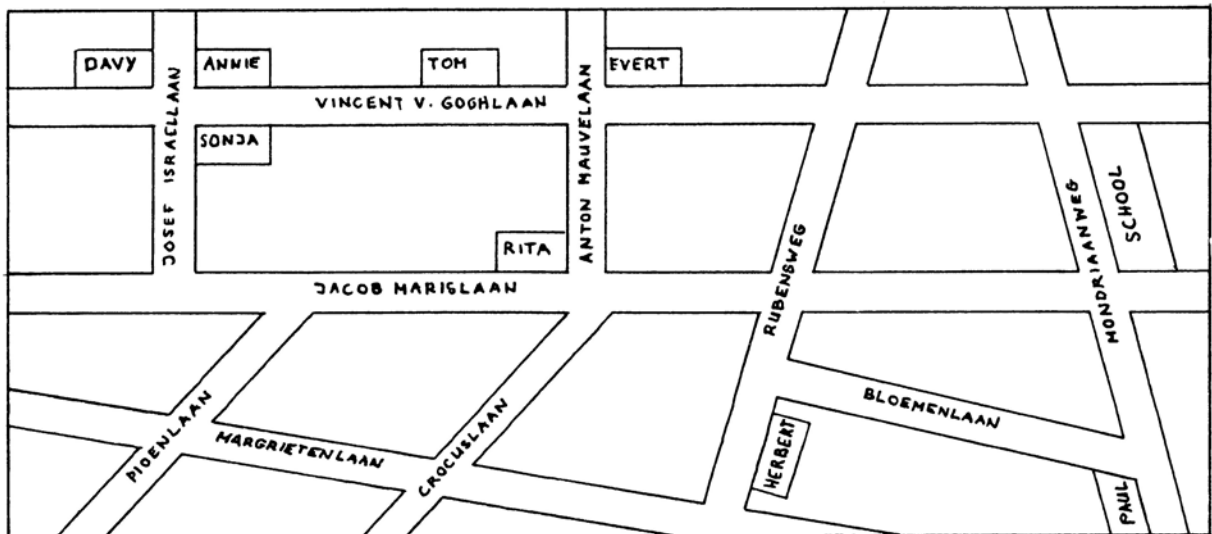


Legenda: □ Hoofdstad ● Stad  Bergen  Vliegveld
 Monument  Dennenbos  Loofbos

- a Op welke hoogte ligt de hoofdstad? 485 +
- b Hoe hoog is de hoogste berg? 2035 +
- c Welke bossen liggen hoger: de loofbossen of de dennenbossen? de dennenbossen
- d In welke vakken vind je monumenten? B4, D3, D5
- e Het vliegveld ligt ten noorden van de laagst gelegen stad. Teken het vliegveld.

1

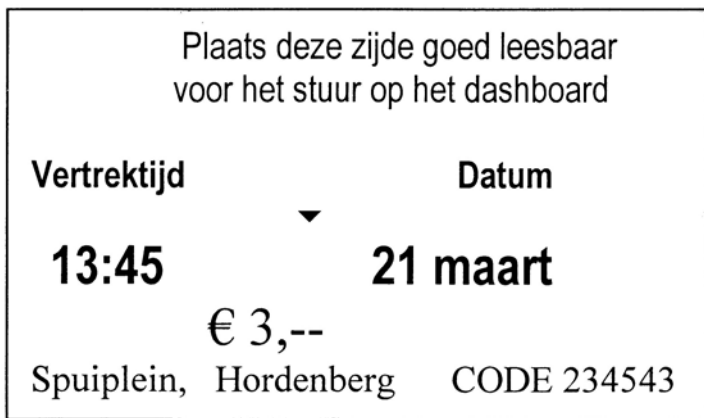
Bekijk de plattegrond van een deel van de Schildersbuurt. Maak daarna de vragen.



- a Wie woont er het dichtst bij de school? **Paul**
- b Welke zijstraten komen uit op de Margrietelaan? **de Pioenlaan en de Crocuslaan**
- c Herbert staat met zijn rug naar de voordeur van zijn huis en gaat rechtsaf, daarna de eerste links, de tweede straat rechts en daarna de eerste links. Bij wie gaat Herbert op visite?
bij Davy

2

Bekijk de gegevens op de parkeerkaart en maak daarna de vragen.



- a Waar staat de auto geparkeerd? **op het Spuiplein**
- b Moet het kaartje links of rechts op het dashboard gelegd worden? **links op het dashboard**
- c Op welke datum is deze kaart geldig? **21 maart**

3

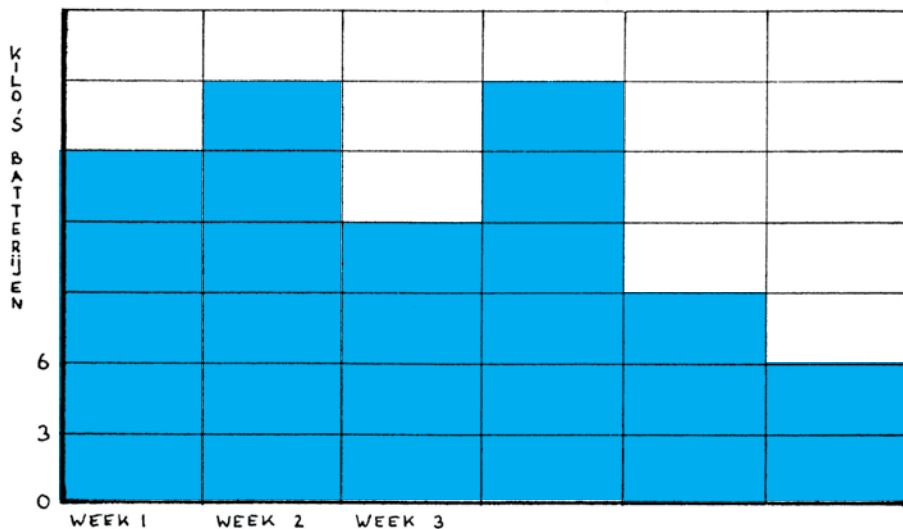
Bekijk de tabel en maak daarna de opdracht.

Verzamelde kilo's batterijen groep 7

	Week 1	Week 2	Week 3	Week 4	Week 5	Week 6
Kilo's	15	18	12	18	9	6

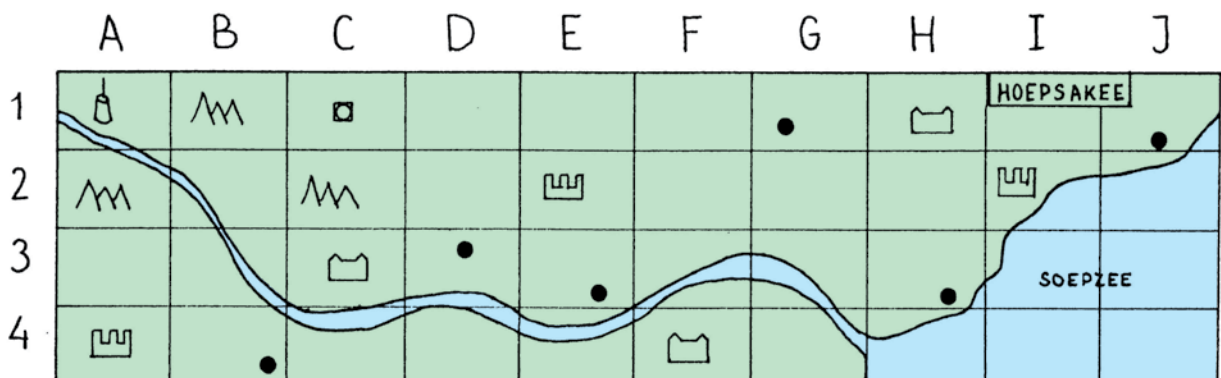
Verwerk de gegevens uit de tabel in een staafdiagram.

Verzamelde kilo's batterijen



4

Bekijk de kaart en de legenda van het eiland Hoepsakee en maak daarna de vragen.



Legenda: Hoofdstad Stad Monument Vulkan
 Bergen Kasteel

- In welke vakken vind je kastelen? **C3 - F4 - H1**
- In welke vakken vind je monumenten? **A4 - E2 - I2**
- Kleur het land groen en het water blauw.

Colofon

Auteur

P. Nagtegaal

Vormgeving en lay out

Kre-add/Marcel Westervoorde

Illustraties

P. Nagtegaal

Opmaak

PPMP Prepress, Wolvega

Ontwerp omslag

Eduardo Media

Over ThiemeMeulenhoff

ThiemeMeulenhoff ontwikkelt zich van educatieve uitgeverij tot een learning design company. We brengen content, leerontwerp en technologie samen. Met onze groeiende expertise, ervaring en leeroplossingen zijn we een partner voor scholen bij het vernieuwen en verbeteren van onderwijs. Zo kunnen we samen beter recht doen aan de verschillen tussen lerenden en scholen en ervoor zorgen dat leren steeds persoonlijker, effectiever en efficiënter wordt.

Samen leren vernieuwen.

www.thiememeulenhoff.nl

ISBN 978 90 06 49120 3
Tweede druk, eerste oplage, 2018

© ThiemeMeulenhoff, Amersfoort, 2001

Alle rechten voorbehouden. Niets uit deze uitgave mag worden verveelvoudigd, opgeslagen in een geautomatiseerd gegevensbestand, of openbaar gemaakt, in enige vorm of op enige wijze, hetzij elektronisch, mechanisch, door fotokopieën, opnamen, of enig andere manier, zonder voorafgaande schriftelijke toestemming van de uitgever.

Voor zover het maken van kopieën uit deze uitgave is toegestaan op grond van artikel 16B Auteurswet 1912 j° het Besluit van 23 augustus 1985, Stbl. 471 en artikel 17 Auteurswet 1912, dient men de daarvoor wettelijk verschuldigde vergoedingen te voldoen aan Stichting Publicatie- en Reproductierechten Organisatie (PRO), Postbus 3060, 2130 KB Hoofddorp (www.stichting-pro.nl). Voor het overnemen van gedeelte(n) uit deze uitgave in bloemlezingen, readers en andere compilatiewerken (artikel 16 Auteurswet 1912) dient men zich tot de uitgever te wenden. Voor meer informatie over het gebruik van muziek, film en het maken van kopieën in het onderwijs zie www.auteursrechtenonderwijs.nl.

De uitgever heeft ernaar gestreefd de auteursrechten te regelen volgens de wettelijke bepalingen. Degenen die desondanks menen zekere rechten te kunnen doen gelden, kunnen zich alsnog tot de uitgever wenden.